

1.- Escribe con letra los siguientes números

6 _____
 2 _____
 7 _____
 8 _____
 1 _____



2.-Escribe el anterior y el posterior

_____	5	_____	_____	8	_____
_____	9	_____	_____	8	_____
_____	9	_____	_____	3	_____
_____	3	_____	_____	2	_____
_____	5	_____	_____	6	_____

3.-Coloca el signo correspondiente: < = >

4	_____	7	_____	8	_____	7
9	_____	3	_____	7	_____	1
3	_____	9	_____	8	_____	7
7	_____	1	_____	8	_____	4


4.-Dibuja tantos palitos como indica el número

8	_____	1	_____
5	_____	9	_____
9	_____	4	_____
7	_____	9	_____

5.-Realiza las siguientes operaciones


$$\begin{array}{r} 3 + 1 + 1 + 4 = \\ 2 + 9 + 5 + 3 = \\ 9 + 2 + 1 + 1 = \\ 6 + 3 + 1 + 9 = \\ 7 + 5 + 5 + 4 = \end{array}$$

6.-Completas los cuadros en blanco.

1	+	<input type="text"/>	=	10		3	+	<input type="text"/>	=	6
2	+	<input type="text"/>	=	10		3	+	<input type="text"/>	=	8
4	+	<input type="text"/>	=	10		3	+	<input type="text"/>	=	8
5	+	<input type="text"/>	=	6		4	+	<input type="text"/>	=	9
5	+	<input type="text"/>	=	6		5	+	<input type="text"/>	=	10

7.-Completas los cuadros en blanco.

Imágenes
Educativas.com

7	-	<input type="text"/>	=	4		8	-	<input type="text"/>	=	5
8	-	<input type="text"/>	=	5		5	-	<input type="text"/>	=	5
5	-	<input type="text"/>	=	4		9	-	<input type="text"/>	=	5
8	-	<input type="text"/>	=	4		9	-	<input type="text"/>	=	1
5	-	<input type="text"/>	=	3		7	-	<input type="text"/>	=	3
7	-	<input type="text"/>	=	1		8	-	<input type="text"/>	=	5
7	-	<input type="text"/>	=	1		9	-	<input type="text"/>	=	3

1.- Escribe con letra los siguientes números

4 _____
3 _____
7 _____
4 _____
8 _____

Imágenes
Educativas.com

2.-Escribe el anterior y el posterior

_____	3	_____	_____	2	_____
_____	6	_____	_____	7	_____
_____	9	_____	_____	5	_____
_____	5	_____	_____	3	_____
_____	6	_____	_____	7	_____

3.-Coloca el signo correspondiente: < = >

7	_____	9	_____	9	_____	5
6	_____	9	_____	2	_____	1
6	_____	7	_____	5	_____	6
8	_____	2	_____	7	_____	5


4.-Dibuja tantos palitos como indica el número

1	_____	9	_____
6	_____	2	_____
9	_____	5	_____
8	_____	8	_____

5.-Realiza las siguientes operaciones


$$\begin{array}{r} 2 + 7 + 1 + 7 = \\ 7 + 8 + 2 + 1 = \\ 5 + 4 + 3 + 7 = \\ 1 + 4 + 3 + 1 = \\ 1 + 3 + 5 + 5 = \end{array}$$

6.-Completas los cuadros en blanco.

3	+	<input type="text"/>	=	8		3	+	<input type="text"/>	=	6
4	+	<input type="text"/>	=	10		4	+	<input type="text"/>	=	10
1	+	<input type="text"/>	=	9		3	+	<input type="text"/>	=	7
1	+	<input type="text"/>	=	6		3	+	<input type="text"/>	=	6
5	+	<input type="text"/>	=	9		1	+	<input type="text"/>	=	9

7.-Completas los cuadros en blanco.

Imágenes Educativas.com

5	-	<input type="text"/>	=	1		9	-	<input type="text"/>	=	1
7	-	<input type="text"/>	=	2		9	-	<input type="text"/>	=	3
7	-	<input type="text"/>	=	1		7	-	<input type="text"/>	=	3
7	-	<input type="text"/>	=	5		5	-	<input type="text"/>	=	4
5	-	<input type="text"/>	=	3		5	-	<input type="text"/>	=	4
5	-	<input type="text"/>	=	5		7	-	<input type="text"/>	=	2
9	-	<input type="text"/>	=	1		8	-	<input type="text"/>	=	3

1.- Escribe con letra los siguientes números

1	_____
6	_____
1	_____
2	_____
8	_____



2.-Escribe el anterior y el posterior

_____	5	_____	_____	8	_____
_____	4	_____	_____	8	_____
_____	9	_____	_____	7	_____
_____	6	_____	_____	7	_____
_____	6	_____	_____	6	_____

3.-Coloca el signo correspondiente: < = >

3	_____	5	_____	9	_____	1
7	_____	6	_____	8	_____	6
8	_____	2	_____	7	_____	7
7	_____	5	_____	3	_____	3


4.-Dibuja tantos palitos como indica el número

6	_____	2	_____
2	_____	9	_____
4	_____	3	_____
3	_____	4	_____

5.-Realiza las siguientes operaciones


$$\begin{array}{r} 2 + 3 + 5 + 6 = \\ 5 + 5 + 2 + 8 = \\ 5 + 3 + 2 + 7 = \\ 9 + 3 + 3 + 9 = \\ 2 + 6 + 2 + 4 = \end{array}$$

6.-Completas los cuadros en blanco.

1	+	<input type="text"/>	=	9		3	+	<input type="text"/>	=	10
5	+	<input type="text"/>	=	10		4	+	<input type="text"/>	=	10
2	+	<input type="text"/>	=	8		1	+	<input type="text"/>	=	10
1	+	<input type="text"/>	=	10		2	+	<input type="text"/>	=	9
4	+	<input type="text"/>	=	7		4	+	<input type="text"/>	=	9

7.-Completas los cuadros en blanco.

Imágenes Educativas.com

9	-	<input type="text"/>	=	5		9	-	<input type="text"/>	=	3
5	-	<input type="text"/>	=	4		8	-	<input type="text"/>	=	1
9	-	<input type="text"/>	=	4		8	-	<input type="text"/>	=	4
5	-	<input type="text"/>	=	4		7	-	<input type="text"/>	=	2
9	-	<input type="text"/>	=	2		7	-	<input type="text"/>	=	3
6	-	<input type="text"/>	=	1		9	-	<input type="text"/>	=	2
6	-	<input type="text"/>	=	3		7	-	<input type="text"/>	=	2

1.- Escribe con letra los siguientes números

6 _____
 7 _____
 4 _____
 7 _____
 2 _____

Imágenes
Educativas.com

2.-Escribe el anterior y el posterior

_____	3	_____	_____	9	_____
_____		_____	_____	4	_____
_____	2	_____	_____	3	_____
_____		_____	_____	2	_____
_____		_____	_____	5	_____

3.-Coloca el signo correspondiente: < = >

8	_____	6	_____	5	_____	9
8	_____	9	_____	7	_____	4
1	_____	9	_____	4	_____	5
4	_____	6	_____	2	_____	2


4.-Dibuja tantos palitos como indica el número

5	_____	3	_____
6	_____	6	_____
5	_____	7	_____
4	_____	6	_____

5.-Realiza las siguientes operaciones


$$\begin{array}{r} 4 + 2 + 5 + 7 = \\ 6 + 9 + 3 + 3 = \\ 6 + 6 + 1 + 3 = \\ 2 + 4 + 3 + 3 = \\ 9 + 2 + 4 + 9 = \end{array}$$

6.-Completas los cuadros en blanco.

1	+	<input type="text"/>	=	10		3	+	<input type="text"/>	=	6
1	+	<input type="text"/>	=	7		3	+	<input type="text"/>	=	10
1	+	<input type="text"/>	=	6		3	+	<input type="text"/>	=	7
3	+	<input type="text"/>	=	8		1	+	<input type="text"/>	=	10
2	+	<input type="text"/>	=	10		5	+	<input type="text"/>	=	6

7.-Completas los cuadros en blanco.

Imágenes Educativas.com

9	-	<input type="text"/>	=	2		7	-	<input type="text"/>	=	5
9	-	<input type="text"/>	=	1		5	-	<input type="text"/>	=	5
6	-	<input type="text"/>	=	5		7	-	<input type="text"/>	=	4
5	-	<input type="text"/>	=	5		6	-	<input type="text"/>	=	1
8	-	<input type="text"/>	=	2		9	-	<input type="text"/>	=	3
9	-	<input type="text"/>	=	5		5	-	<input type="text"/>	=	1
6	-	<input type="text"/>	=	2		8	-	<input type="text"/>	=	3

1.- Escribe con letra los siguientes números

4 _____
9 _____
3 _____
3 _____
3 _____

Imágenes
Educativas.com

2.-Escribe el anterior y el posterior

_____	2	_____	_____	5	_____
_____	5	_____	_____	2	_____
_____	9	_____	_____	6	_____
_____	1	_____	_____	4	_____
_____	4	_____	_____	4	_____

3.-Coloca el signo correspondiente: < = >

9	_____	6	_____	4	_____	6
2	_____	1	_____	4	_____	1
7	_____	3	_____	2	_____	6
8	_____	6	_____	8	_____	3


4.-Dibuja tantos palitos como indica el número

6	_____	6	_____
1	_____	3	_____
5	_____	5	_____
6	_____	3	_____

5.-Realiza las siguientes operaciones


$$\begin{array}{r} 2 + 7 + 3 + 7 = \\ 6 + 1 + 1 + 3 = \\ 1 + 2 + 4 + 5 = \\ 2 + 2 + 5 + 2 = \\ 6 + 6 + 5 + 1 = \end{array}$$

6.-Completas los cuadros en blanco.

4	+	<input type="text"/>	=	9		1	+	<input type="text"/>	=	6
3	+	<input type="text"/>	=	6		2	+	<input type="text"/>	=	7
2	+	<input type="text"/>	=	7		1	+	<input type="text"/>	=	6
3	+	<input type="text"/>	=	8		4	+	<input type="text"/>	=	10
3	+	<input type="text"/>	=	9		5	+	<input type="text"/>	=	7

7.-Completas los cuadros en blanco.

Imágenes Educativas.com

8	-	<input type="text"/>	=	4		7	-	<input type="text"/>	=	4
8	-	<input type="text"/>	=	3		8	-	<input type="text"/>	=	5
9	-	<input type="text"/>	=	2		7	-	<input type="text"/>	=	5
6	-	<input type="text"/>	=	2		7	-	<input type="text"/>	=	1
6	-	<input type="text"/>	=	3		9	-	<input type="text"/>	=	3
7	-	<input type="text"/>	=	4		6	-	<input type="text"/>	=	5
8	-	<input type="text"/>	=	3		5	-	<input type="text"/>	=	2

1.- Escribe con letra los siguientes números

2 _____
 3 _____
 5 _____
 4 _____
 3 _____

Imágenes Educativas.com

2.-Escribe el anterior y el posterior

_____	2	_____	_____	6	_____
_____	1	_____	_____	8	_____
_____	7	_____	_____	7	_____
_____	9	_____	_____	7	_____
_____	2	_____	_____	7	_____

3.-Coloca el signo correspondiente: < = >

1	_____	9	_____	3	_____	7
3	_____	9	_____	7	_____	5
8	_____	3	_____	9	_____	2
1	_____	3	_____	2	_____	2


4.-Dibuja tantos palitos como indica el número

7	_____	5	_____
9	_____	8	_____
9	_____	7	_____
4	_____	4	_____

5.-Realiza las siguientes operaciones


$$\begin{array}{r} 4 + 8 + 3 + 9 = \\ 9 + 6 + 3 + 4 = \\ 4 + 2 + 1 + 4 = \\ 7 + 4 + 5 + 8 = \\ 4 + 5 + 1 + 1 = \end{array}$$

6.-Completas los cuadros en blanco.

5	+	<input type="text"/>	=	6		3	+	<input type="text"/>	=	10
2	+	<input type="text"/>	=	7		1	+	<input type="text"/>	=	8
2	+	<input type="text"/>	=	10		4	+	<input type="text"/>	=	9
3	+	<input type="text"/>	=	7		4	+	<input type="text"/>	=	6
3	+	<input type="text"/>	=	10		5	+	<input type="text"/>	=	7

7.-Completas los cuadros en blanco.

Imágenes Educativas.com

5	-	<input type="text"/>	=	5		8	-	<input type="text"/>	=	2
9	-	<input type="text"/>	=	5		8	-	<input type="text"/>	=	2
7	-	<input type="text"/>	=	3		6	-	<input type="text"/>	=	4
5	-	<input type="text"/>	=	4		7	-	<input type="text"/>	=	2
6	-	<input type="text"/>	=	5		5	-	<input type="text"/>	=	5
9	-	<input type="text"/>	=	2		6	-	<input type="text"/>	=	3
8	-	<input type="text"/>	=	4		6	-	<input type="text"/>	=	5

1.- Escribe con letra los siguientes números

7	_____
7	_____
3	_____
4	_____
9	_____



2.-Escribe el anterior y el posterior

_____	9	_____	_____	2	_____
_____	7	_____	_____	1	_____
_____	9	_____	_____	1	_____
_____	9	_____	_____	4	_____
_____	3	_____	_____	6	_____

3.-Coloca el signo correspondiente: < = >

6	_____	3	_____	1	_____	5
5	_____	4	_____	3	_____	8
8	_____	3	_____	9	_____	7
1	_____	8	_____	5	_____	1


4.-Dibuja tantos palitos como indica el número

2	_____	3	_____
4	_____	4	_____
4	_____	3	_____
8	_____	2	_____

5.-Realiza las siguientes operaciones


$$\begin{array}{r} 1 + 9 + 2 + 5 = \\ 9 + 5 + 1 + 9 = \\ 7 + 2 + 3 + 7 = \\ 4 + 9 + 5 + 8 = \\ 6 + 6 + 1 + 3 = \end{array}$$

6.-Completas los cuadros en blanco.

5	+	<input type="text"/>	=	8		1	+	<input type="text"/>	=	8
4	+	<input type="text"/>	=	7		3	+	<input type="text"/>	=	8
3	+	<input type="text"/>	=	6		2	+	<input type="text"/>	=	9
1	+	<input type="text"/>	=	7		3	+	<input type="text"/>	=	6
4	+	<input type="text"/>	=	8		3	+	<input type="text"/>	=	7

7.-Completas los cuadros en blanco.

Imágenes Educativas.com

7	-	<input type="text"/>	=	2		9	-	<input type="text"/>	=	3
6	-	<input type="text"/>	=	5		6	-	<input type="text"/>	=	4
8	-	<input type="text"/>	=	5		8	-	<input type="text"/>	=	5
8	-	<input type="text"/>	=	5		8	-	<input type="text"/>	=	3
5	-	<input type="text"/>	=	2		5	-	<input type="text"/>	=	5
6	-	<input type="text"/>	=	5		9	-	<input type="text"/>	=	5
7	-	<input type="text"/>	=	1		5	-	<input type="text"/>	=	3

1.- Escribe con letra los siguientes números

5 _____
 5 _____
 6 _____
 7 _____
 5 _____



2.-Escribe el anterior y el posterior

_____	5	_____	_____	9	_____
_____	8	_____	_____	6	_____
_____	1	_____	_____	8	_____
_____	6	_____	_____	2	_____
_____	7	_____	_____	2	_____

3.-Coloca el signo correspondiente: < = >

5	_____	9	_____	7	_____	1
7	_____	3	_____	4	_____	6
8	_____	6	_____	6	_____	4
9	_____	4	_____	4	_____	6


4.-Dibuja tantos palitos como indica el número

4	_____	9	_____
4	_____	1	_____
8	_____	9	_____
9	_____	1	_____

5.-Realiza las siguientes operaciones


$$\begin{array}{r} 9 + 7 + 5 + 1 = \\ 9 + 2 + 3 + 9 = \\ 8 + 5 + 4 + 9 = \\ 8 + 1 + 4 + 2 = \\ 1 + 6 + 2 + 7 = \end{array}$$

6.-Completas los cuadros en blanco.

4	+	<input type="text"/>	=	10		5	+	<input type="text"/>	=	8
3	+	<input type="text"/>	=	8		3	+	<input type="text"/>	=	9
5	+	<input type="text"/>	=	9		4	+	<input type="text"/>	=	8
2	+	<input type="text"/>	=	9		5	+	<input type="text"/>	=	6
2	+	<input type="text"/>	=	7		5	+	<input type="text"/>	=	10

7.-Completas los cuadros en blanco.

Imágenes Educativas.com

9	-	<input type="text"/>	=	5		9	-	<input type="text"/>	=	3
9	-	<input type="text"/>	=	5		9	-	<input type="text"/>	=	5
6	-	<input type="text"/>	=	1		6	-	<input type="text"/>	=	3
7	-	<input type="text"/>	=	2		8	-	<input type="text"/>	=	4
5	-	<input type="text"/>	=	5		9	-	<input type="text"/>	=	3
6	-	<input type="text"/>	=	5		6	-	<input type="text"/>	=	1
8	-	<input type="text"/>	=	4		6	-	<input type="text"/>	=	2

1.- Escribe con letra los siguientes números

9 _____
 7 _____
 7 _____
 7 _____
 8 _____



2.-Escribe el anterior y el posterior

_____	8	_____	_____	3	_____
_____	9	_____	_____	5	_____
_____	1	_____	_____	5	_____
_____	3	_____	_____	8	_____
_____	6	_____	_____	5	_____

3.-Coloca el signo correspondiente: < = >

8	_____	3	_____	3	_____	8
7	_____	4	_____	7	_____	3
8	_____	6	_____	4	_____	3
2	_____	2	_____	5	_____	3


4.-Dibuja tantos palitos como indica el número

7	_____	3	_____
3	_____	6	_____
8	_____	2	_____
1	_____	6	_____

5.-Realiza las siguientes operaciones


$$\begin{array}{r} 3 + 8 + 5 + 4 = \\ 1 + 1 + 3 + 4 = \\ 2 + 2 + 2 + 2 = \\ 8 + 7 + 2 + 4 = \\ 8 + 4 + 3 + 2 = \end{array}$$

6.-Completas los cuadros en blanco.

3	+	<input type="text"/>	=	9		3	+	<input type="text"/>	=	7
2	+	<input type="text"/>	=	8		3	+	<input type="text"/>	=	9
5	+	<input type="text"/>	=	6		2	+	<input type="text"/>	=	10
2	+	<input type="text"/>	=	7		2	+	<input type="text"/>	=	8
5	+	<input type="text"/>	=	10		1	+	<input type="text"/>	=	10

7.-Completas los cuadros en blanco.

Imágenes Educativas.com

9	-	<input type="text"/>	=	1		5	-	<input type="text"/>	=	5
7	-	<input type="text"/>	=	4		8	-	<input type="text"/>	=	2
8	-	<input type="text"/>	=	1		6	-	<input type="text"/>	=	4
8	-	<input type="text"/>	=	4		5	-	<input type="text"/>	=	3
7	-	<input type="text"/>	=	5		8	-	<input type="text"/>	=	5
6	-	<input type="text"/>	=	2		6	-	<input type="text"/>	=	3
6	-	<input type="text"/>	=	3		8	-	<input type="text"/>	=	1

1.- Escribe con letra los siguientes números

4 _____
 2 _____
 3 _____
 6 _____
 4 _____



2.-Escribe el anterior y el posterior

_____	2	_____	_____	8	_____
_____	1	_____	_____	7	_____
_____	6	_____	_____	8	_____
_____	1	_____	_____	3	_____
_____	4	_____	_____	9	_____

3.-Coloca el signo correspondiente: < = >

4	_____	1	_____	2	_____	6
1	_____	6	_____	9	_____	1
6	_____	9	_____	2	_____	1
6	_____	4	_____	2	_____	8


4.-Dibuja tantos palitos como indica el número

2	_____	8	_____
8	_____	3	_____
2	_____	8	_____
2	_____	1	_____

5.-Realiza las siguientes operaciones


$$\begin{array}{r} 7 + 9 + 5 + 4 = \\ 9 + 4 + 1 + 8 = \\ 9 + 7 + 2 + 5 = \\ 8 + 3 + 5 + 9 = \\ 2 + 9 + 3 + 3 = \end{array}$$

6.-Completas los cuadros en blanco.

4	+	<input type="text"/>	=	10		5	+	<input type="text"/>	=	7
1	+	<input type="text"/>	=	10		5	+	<input type="text"/>	=	8
5	+	<input type="text"/>	=	10		5	+	<input type="text"/>	=	9
3	+	<input type="text"/>	=	6		1	+	<input type="text"/>	=	6
5	+	<input type="text"/>	=	6		2	+	<input type="text"/>	=	8

7.-Completas los cuadros en blanco.

Imágenes Educativas.com

5	-	<input type="text"/>	=	2		7	-	<input type="text"/>	=	4
9	-	<input type="text"/>	=	3		5	-	<input type="text"/>	=	4
9	-	<input type="text"/>	=	4		9	-	<input type="text"/>	=	2
8	-	<input type="text"/>	=	2		8	-	<input type="text"/>	=	2
5	-	<input type="text"/>	=	5		9	-	<input type="text"/>	=	5
7	-	<input type="text"/>	=	5		5	-	<input type="text"/>	=	4
6	-	<input type="text"/>	=	3		8	-	<input type="text"/>	=	3

1.- Escribe con letra los siguientes números

4	_____
3	_____
3	_____
3	_____
1	_____



2.-Escribe el anterior y el posterior

_____	2	_____	_____	6	_____
_____	8	_____	_____	2	_____
_____	9	_____	_____	8	_____
_____	8	_____	_____	1	_____
_____	3	_____	_____	9	_____

3.-Coloca el signo correspondiente: < = >

6	_____	6	_____	2	_____	1
2	_____	2	_____	2	_____	9
9	_____	3	_____	9	_____	9
2	_____	6	_____	3	_____	1


4.-Dibuja tantos palitos como indica el número

5	_____	6	_____
8	_____	5	_____
4	_____	6	_____
7	_____	8	_____

5.-Realiza las siguientes operaciones


$$\begin{array}{r} 2 + 3 + 4 + 8 = \\ 1 + 2 + 3 + 1 = \\ 2 + 3 + 5 + 8 = \\ 6 + 1 + 2 + 9 = \\ 6 + 8 + 4 + 7 = \end{array}$$

6.-Completas los cuadros en blanco.

1	+	<input type="text"/>	=	8		5	+	<input type="text"/>	=	7
5	+	<input type="text"/>	=	6		3	+	<input type="text"/>	=	9
3	+	<input type="text"/>	=	7		5	+	<input type="text"/>	=	10
1	+	<input type="text"/>	=	6		3	+	<input type="text"/>	=	6
3	+	<input type="text"/>	=	6		2	+	<input type="text"/>	=	10

7.-Completas los cuadros en blanco.

Imágenes Educativas.com

7	-	<input type="text"/>	=	3		5	-	<input type="text"/>	=	5
7	-	<input type="text"/>	=	1		8	-	<input type="text"/>	=	4
8	-	<input type="text"/>	=	4		6	-	<input type="text"/>	=	1
6	-	<input type="text"/>	=	2		7	-	<input type="text"/>	=	3
8	-	<input type="text"/>	=	1		7	-	<input type="text"/>	=	1
7	-	<input type="text"/>	=	2		5	-	<input type="text"/>	=	2
8	-	<input type="text"/>	=	4		5	-	<input type="text"/>	=	2

1.- Escribe con letra los siguientes números

9 _____
 5 _____
 5 _____
 1 _____
 4 _____



2.-Escribe el anterior y el posterior

_____	3	_____	_____	3	_____
_____	5	_____	_____	4	_____
_____	3	_____	_____	8	_____
_____	5	_____	_____	8	_____
_____	1	_____	_____	4	_____

3.-Coloca el signo correspondiente: < = >

1	_____	4	_____	5	_____	9
6	_____	5	_____	3	_____	4
8	_____	7	_____	6	_____	7
7	_____	9	_____	5	_____	1


4.-Dibuja tantos palitos como indica el número

5	_____	1	_____
6	_____	7	_____
7	_____	1	_____
5	_____	9	_____

5.-Realiza las siguientes operaciones


$$\begin{array}{r} 3 + 1 + 2 + 9 = \\ 1 + 5 + 1 + 3 = \\ 1 + 5 + 1 + 9 = \\ 5 + 4 + 2 + 4 = \\ 3 + 8 + 1 + 5 = \end{array}$$

6.-Completas los cuadros en blanco.

1	+	<input type="text"/>	=	9		2	+	<input type="text"/>	=	7
1	+	<input type="text"/>	=	6		5	+	<input type="text"/>	=	9
4	+	<input type="text"/>	=	6		2	+	<input type="text"/>	=	10
1	+	<input type="text"/>	=	10		4	+	<input type="text"/>	=	9
1	+	<input type="text"/>	=	8		1	+	<input type="text"/>	=	8

7.-Completas los cuadros en blanco.

Imágenes Educativas.com

7	-	<input type="text"/>	=	3		6	-	<input type="text"/>	=	3
6	-	<input type="text"/>	=	3		9	-	<input type="text"/>	=	5
9	-	<input type="text"/>	=	4		6	-	<input type="text"/>	=	1
6	-	<input type="text"/>	=	1		8	-	<input type="text"/>	=	1
6	-	<input type="text"/>	=	2		8	-	<input type="text"/>	=	2
6	-	<input type="text"/>	=	3		8	-	<input type="text"/>	=	5
9	-	<input type="text"/>	=	2		9	-	<input type="text"/>	=	3

1.- Escribe con letra los siguientes números

3 _____
 8 _____
 3 _____
 3 _____
 2 _____



2.-Escribe el anterior y el posterior

_____	6	_____	_____	4	_____
_____	6	_____	_____	1	_____
_____	8	_____	_____	5	_____
_____	3	_____	_____	7	_____
_____	6	_____	_____	6	_____

3.-Coloca el signo correspondiente: < = >

4	_____	8	_____	6	_____	4
1	_____	5	_____	7	_____	2
1	_____	4	_____	7	_____	2
9	_____	9	_____	6	_____	3


4.-Dibuja tantos palitos como indica el número

5	_____	9	_____
1	_____	8	_____
9	_____	7	_____
2	_____	9	_____

5.-Realiza las siguientes operaciones


$$\begin{array}{r} 3 + 2 + 2 + 5 = \\ 4 + 2 + 5 + 5 = \\ 6 + 1 + 5 + 5 = \\ 2 + 8 + 5 + 9 = \\ 9 + 6 + 5 + 1 = \end{array}$$

6.-Completas los cuadros en blanco.

2	+	<input type="text"/>	=	6		4	+	<input type="text"/>	=	8
3	+	<input type="text"/>	=	8		4	+	<input type="text"/>	=	10
5	+	<input type="text"/>	=	8		1	+	<input type="text"/>	=	9
1	+	<input type="text"/>	=	6		5	+	<input type="text"/>	=	9
4	+	<input type="text"/>	=	7		5	+	<input type="text"/>	=	7

7.-Completas los cuadros en blanco.

Imágenes Educativas.com

8	-	<input type="text"/>	=	2		7	-	<input type="text"/>	=	5
6	-	<input type="text"/>	=	1		9	-	<input type="text"/>	=	4
8	-	<input type="text"/>	=	5		8	-	<input type="text"/>	=	4
6	-	<input type="text"/>	=	4		7	-	<input type="text"/>	=	3
6	-	<input type="text"/>	=	5		8	-	<input type="text"/>	=	4
7	-	<input type="text"/>	=	2		7	-	<input type="text"/>	=	1
8	-	<input type="text"/>	=	5		6	-	<input type="text"/>	=	4

1.- Escribe con letra los siguientes números

5 _____
 5 _____
 2 _____
 8 _____
 8 _____



2.-Escribe el anterior y el posterior

_____	5	_____	_____	5	_____
_____	4	_____	_____	9	_____
_____	9	_____	_____	2	_____
_____	7	_____	_____	6	_____
_____	7	_____	_____	9	_____

3.-Coloca el signo correspondiente: < = >

1	_____	7	_____	9	_____	2
3	_____	6	_____	5	_____	8
3	_____	1	_____	4	_____	3
7	_____	6	_____	5	_____	3


4.-Dibuja tantos palitos como indica el número

5	_____	9	_____
2	_____	4	_____
3	_____	7	_____
2	_____	1	_____

5.-Realiza las siguientes operaciones


$$\begin{array}{r} 3 + 4 + 4 + 5 = \\ 9 + 2 + 5 + 5 = \\ 7 + 3 + 2 + 3 = \\ 6 + 8 + 3 + 5 = \\ 9 + 5 + 3 + 5 = \end{array}$$

6.-Completas los cuadros en blanco.

1	+	<input type="text"/>	=	8		1	+	<input type="text"/>	=	6
5	+	<input type="text"/>	=	9		3	+	<input type="text"/>	=	9
2	+	<input type="text"/>	=	6		2	+	<input type="text"/>	=	9
2	+	<input type="text"/>	=	9		4	+	<input type="text"/>	=	7
5	+	<input type="text"/>	=	8		5	+	<input type="text"/>	=	10

Imágenes Educativas.com

7.-Completas los cuadros en blanco.

6	-	<input type="text"/>	=	3		6	-	<input type="text"/>	=	1
6	-	<input type="text"/>	=	5		7	-	<input type="text"/>	=	1
5	-	<input type="text"/>	=	3		5	-	<input type="text"/>	=	2
8	-	<input type="text"/>	=	3		6	-	<input type="text"/>	=	3
6	-	<input type="text"/>	=	3		8	-	<input type="text"/>	=	5
7	-	<input type="text"/>	=	3		7	-	<input type="text"/>	=	3
6	-	<input type="text"/>	=	2		5	-	<input type="text"/>	=	2

1.- Escribe con letra los siguientes números

6 _____
 4 _____
 6 _____
 4 _____
 1 _____

Imágenes
Educativas.com

2.-Escribe el anterior y el posterior

_____	9	_____	_____	3	_____
_____	5	_____	_____	4	_____
_____	5	_____	_____	4	_____
_____	2	_____	_____	3	_____
_____	9	_____	_____	6	_____

3.-Coloca el signo correspondiente: < = >

3	_____	4	_____	1	_____	8
7	_____	3	_____	5	_____	4
4	_____	7	_____	3	_____	6
7	_____	8	_____	2	_____	6


4.-Dibuja tantos palitos como indica el número

2	_____	4	_____
2	_____	9	_____
7	_____	8	_____
9	_____	6	_____

5.-Realiza las siguientes operaciones


$$\begin{array}{r} 7 \\ 3 \\ 2 \\ 8 \\ 4 \end{array} + \begin{array}{r} 7 \\ 9 \\ 9 \\ 6 \\ 7 \end{array} + \begin{array}{r} 4 \\ 1 \\ 4 \\ 5 \\ 3 \end{array} + \begin{array}{r} 8 \\ 2 \\ 8 \\ 4 \\ 1 \end{array} =$$

6.-Completas los cuadros en blanco.

2	+	<input type="text"/>	=	7		5	+	<input type="text"/>	=	8
5	+	<input type="text"/>	=	10		1	+	<input type="text"/>	=	10
1	+	<input type="text"/>	=	9		1	+	<input type="text"/>	=	9
3	+	<input type="text"/>	=	10		3	+	<input type="text"/>	=	8
5	+	<input type="text"/>	=	7		2	+	<input type="text"/>	=	7

7.-Completas los cuadros en blanco.

Imágenes Educativas.com

6	-	<input type="text"/>	=	5		9	-	<input type="text"/>	=	2
8	-	<input type="text"/>	=	2		5	-	<input type="text"/>	=	2
6	-	<input type="text"/>	=	2		6	-	<input type="text"/>	=	1
8	-	<input type="text"/>	=	2		5	-	<input type="text"/>	=	3
9	-	<input type="text"/>	=	1		9	-	<input type="text"/>	=	1
7	-	<input type="text"/>	=	4		7	-	<input type="text"/>	=	5
6	-	<input type="text"/>	=	1		5	-	<input type="text"/>	=	5

1.- Escribe con letra los siguientes números

9	_____
9	_____
9	_____
7	_____
7	_____



2.-Escribe el anterior y el posterior

_____	6	_____	_____	2	_____
_____	5	_____	_____	9	_____
_____	9	_____	_____	3	_____
_____	5	_____	_____	6	_____
_____	1	_____	_____	3	_____

3.-Coloca el signo correspondiente: < = >

3	_____	2	_____	8	_____	8
5	_____	4	_____	2	_____	5
8	_____	7	_____	8	_____	5
9	_____	9	_____	5	_____	2


4.-Dibuja tantos palitos como indica el número

5	_____	7	_____
6	_____	9	_____
6	_____	4	_____
9	_____	1	_____

5.-Realiza las siguientes operaciones


$$\begin{array}{r} 9 + 8 + 4 + 6 = \\ 6 + 6 + 4 + 1 = \\ 5 + 4 + 5 + 8 = \\ 2 + 5 + 4 + 2 = \\ 1 + 8 + 2 + 8 = \end{array}$$

6.-Completas los cuadros en blanco.

5	+	<input type="text"/>	=	7		4	+	<input type="text"/>	=	9
1	+	<input type="text"/>	=	9		5	+	<input type="text"/>	=	7
1	+	<input type="text"/>	=	10		4	+	<input type="text"/>	=	10
1	+	<input type="text"/>	=	10		5	+	<input type="text"/>	=	6
4	+	<input type="text"/>	=	6		3	+	<input type="text"/>	=	8

7.-Completas los cuadros en blanco.

Imágenes Educativas.com

9	-	<input type="text"/>	=	5		6	-	<input type="text"/>	=	3
9	-	<input type="text"/>	=	5		9	-	<input type="text"/>	=	1
6	-	<input type="text"/>	=	2		7	-	<input type="text"/>	=	1
9	-	<input type="text"/>	=	1		7	-	<input type="text"/>	=	2
7	-	<input type="text"/>	=	1		8	-	<input type="text"/>	=	2
7	-	<input type="text"/>	=	2		9	-	<input type="text"/>	=	1
5	-	<input type="text"/>	=	3		6	-	<input type="text"/>	=	1

1.- Escribe con letra los siguientes números

5 _____
 9 _____
 6 _____
 2 _____
 7 _____



2.-Escribe el anterior y el posterior

_____	1	_____	_____	9	_____
_____	7	_____	_____	5	_____
_____	7	_____	_____	3	_____
_____	4	_____	_____	4	_____
_____	9	_____	_____	6	_____

3.-Coloca el signo correspondiente: < = >

3	_____	4	_____	1	_____	7
3	_____	3	_____	6	_____	6
8	_____	2	_____	2	_____	2
7	_____	1	_____	5	_____	1


4.-Dibuja tantos palitos como indica el número

5	_____	1	_____
6	_____	9	_____
6	_____	1	_____
6	_____	2	_____

5.-Realiza las siguientes operaciones


$$\begin{array}{r} 9 + 6 + 5 + 1 = \\ 5 + 7 + 2 + 7 = \\ 9 + 4 + 1 + 2 = \\ 2 + 9 + 5 + 6 = \\ 7 + 9 + 1 + 5 = \end{array}$$

6.-Completas los cuadros en blanco.

5	+	<input type="text"/>	=	9		4	+	<input type="text"/>	=	7
2	+	<input type="text"/>	=	7		2	+	<input type="text"/>	=	10
5	+	<input type="text"/>	=	8		5	+	<input type="text"/>	=	8
1	+	<input type="text"/>	=	7		3	+	<input type="text"/>	=	10
5	+	<input type="text"/>	=	7		3	+	<input type="text"/>	=	10

7.-Completas los cuadros en blanco.

Imágenes Educativas.com

5	-	<input type="text"/>	=	1		9	-	<input type="text"/>	=	4
9	-	<input type="text"/>	=	3		8	-	<input type="text"/>	=	1
7	-	<input type="text"/>	=	5		6	-	<input type="text"/>	=	2
6	-	<input type="text"/>	=	1		7	-	<input type="text"/>	=	5
7	-	<input type="text"/>	=	2		6	-	<input type="text"/>	=	2
8	-	<input type="text"/>	=	5		8	-	<input type="text"/>	=	2
6	-	<input type="text"/>	=	3		8	-	<input type="text"/>	=	1

1.- Escribe con letra los siguientes números

6 _____
4 _____
7 _____
4 _____
9 _____

Imágenes
Educativas.com

2.-Escribe el anterior y el posterior

_____	5	_____	_____	3	_____
_____	1	_____	_____	7	_____
_____	7	_____	_____	3	_____
_____	5	_____	_____	8	_____
_____	6	_____	_____	5	_____

3.-Coloca el signo correspondiente: < = >

9	_____	3	_____	9	_____	5
2	_____	6	_____	4	_____	9
7	_____	4	_____	7	_____	5
5	_____	7	_____	7	_____	1


4.-Dibuja tantos palitos como indica el número

9	_____	8	_____
7	_____	9	_____
3	_____	9	_____
4	_____	9	_____

5.-Realiza las siguientes operaciones


$$\begin{array}{r} 3 \\ 1 \\ 9 \\ 3 \\ 8 \end{array} + \begin{array}{r} 9 \\ 5 \\ 8 \\ 9 \\ 2 \end{array} + \begin{array}{r} 3 \\ 5 \\ 5 \\ 3 \\ 2 \end{array} + \begin{array}{r} 9 \\ 5 \\ 6 \\ 1 \\ 3 \end{array} =$$

6.-Completas los cuadros en blanco.

2	+	<input type="text"/>	=	9		4	+	<input type="text"/>	=	10
1	+	<input type="text"/>	=	8		5	+	<input type="text"/>	=	6
1	+	<input type="text"/>	=	6		3	+	<input type="text"/>	=	8
3	+	<input type="text"/>	=	6		1	+	<input type="text"/>	=	9
4	+	<input type="text"/>	=	8		5	+	<input type="text"/>	=	6

Imágenes Educativas.com

7.-Completas los cuadros en blanco.

7	-	<input type="text"/>	=	5		9	-	<input type="text"/>	=	1
5	-	<input type="text"/>	=	4		7	-	<input type="text"/>	=	3
7	-	<input type="text"/>	=	1		6	-	<input type="text"/>	=	3
6	-	<input type="text"/>	=	1		9	-	<input type="text"/>	=	4
8	-	<input type="text"/>	=	1		6	-	<input type="text"/>	=	1
5	-	<input type="text"/>	=	5		6	-	<input type="text"/>	=	2
7	-	<input type="text"/>	=	4		5	-	<input type="text"/>	=	2

1.- Escribe con letra los siguientes números

5 _____
 2 _____
 9 _____
 4 _____
 6 _____



2.-Escribe el anterior y el posterior

_____	7	_____	_____	7	_____
_____	8	_____	_____	2	_____
_____	5	_____	_____	6	_____
_____	8	_____	_____	4	_____
_____	3	_____	_____	2	_____

3.-Coloca el signo correspondiente: < = >

7	_____	4	_____	9	_____	6
8	_____	1	_____	8	_____	6
2	_____	7	_____	6	_____	5
7	_____	7	_____	5	_____	2


4.-Dibuja tantos palitos como indica el número

4	_____	7	_____
6	_____	8	_____
1	_____	6	_____
5	_____	6	_____

5.-Realiza las siguientes operaciones


$$\begin{array}{r} 5 + 3 + 1 + 1 = \\ 3 + 5 + 5 + 3 = \\ 4 + 3 + 5 + 9 = \\ 2 + 5 + 2 + 6 = \\ 3 + 3 + 5 + 6 = \end{array}$$

6.-Completas los cuadros en blanco.

4	+	<input type="text"/>	=	9		2	+	<input type="text"/>	=	10
5	+	<input type="text"/>	=	8		4	+	<input type="text"/>	=	6
1	+	<input type="text"/>	=	7		1	+	<input type="text"/>	=	7
5	+	<input type="text"/>	=	6		1	+	<input type="text"/>	=	10
4	+	<input type="text"/>	=	8		3	+	<input type="text"/>	=	8

7.-Completas los cuadros en blanco.

Imágenes Educativas.com

9	-	<input type="text"/>	=	4		6	-	<input type="text"/>	=	4
7	-	<input type="text"/>	=	5		8	-	<input type="text"/>	=	1
8	-	<input type="text"/>	=	3		6	-	<input type="text"/>	=	2
9	-	<input type="text"/>	=	5		9	-	<input type="text"/>	=	1
8	-	<input type="text"/>	=	1		9	-	<input type="text"/>	=	4
9	-	<input type="text"/>	=	1		8	-	<input type="text"/>	=	5
7	-	<input type="text"/>	=	2		7	-	<input type="text"/>	=	1

1.- Escribe con letra los siguientes números

6	_____
1	_____
4	_____
8	_____
2	_____



2.-Escribe el anterior y el posterior

_____	2	_____	_____	3	_____
_____		_____	_____		_____
_____		_____	_____		_____
_____	5	_____	_____	5	_____
_____	2	_____	_____	2	_____

3.-Coloca el signo correspondiente: < = >

4	_____	2	_____	2	_____	7
3	_____	5	_____	5	_____	4
5	_____	9	_____	2	_____	7
6	_____	1	_____	3	_____	7


4.-Dibuja tantos palitos como indica el número

5	_____	7	_____
1	_____	7	_____
8	_____	8	_____
6	_____	6	_____

5.-Realiza las siguientes operaciones


$$\begin{array}{r} 1 + 5 + 4 + 8 = \\ 8 + 6 + 3 + 2 = \\ 3 + 8 + 5 + 3 = \\ 3 + 9 + 1 + 3 = \\ 3 + 9 + 5 + 7 = \end{array}$$

6.-Completas los cuadros en blanco.

5	+	<input type="text"/>	=	9		4	+	<input type="text"/>	=	10
3	+	<input type="text"/>	=	8		4	+	<input type="text"/>	=	6
4	+	<input type="text"/>	=	7		4	+	<input type="text"/>	=	6
4	+	<input type="text"/>	=	6		2	+	<input type="text"/>	=	9
5	+	<input type="text"/>	=	9		1	+	<input type="text"/>	=	6

7.-Completas los cuadros en blanco.

Imágenes Educativas.com

9	-	<input type="text"/>	=	3		8	-	<input type="text"/>	=	4
8	-	<input type="text"/>	=	1		5	-	<input type="text"/>	=	1
6	-	<input type="text"/>	=	5		6	-	<input type="text"/>	=	3
8	-	<input type="text"/>	=	4		7	-	<input type="text"/>	=	5
8	-	<input type="text"/>	=	2		8	-	<input type="text"/>	=	1
7	-	<input type="text"/>	=	2		5	-	<input type="text"/>	=	2
7	-	<input type="text"/>	=	4		5	-	<input type="text"/>	=	4

1.- Escribe con letra los siguientes números

6 _____
 7 _____
 4 _____
 7 _____
 9 _____



2.-Escribe el anterior y el posterior

_____	8	_____	_____	8	_____
_____	8	_____	_____	7	_____
_____	3	_____	_____	3	_____
_____	5	_____	_____	4	_____
_____	5	_____	_____	1	_____

3.-Coloca el signo correspondiente: < = >

3	_____	9	_____	1	_____	5
8	_____	4	_____	3	_____	2
9	_____	9	_____	7	_____	6
3	_____	9	_____	4	_____	4


4.-Dibuja tantos palitos como indica el número

6	_____	4	_____
5	_____	5	_____
1	_____	9	_____
9	_____	3	_____

5.-Realiza las siguientes operaciones


$$\begin{array}{r} 1 + 6 + 5 + 2 = \\ 3 + 8 + 2 + 2 = \\ 4 + 2 + 4 + 3 = \\ 9 + 6 + 1 + 5 = \\ 4 + 2 + 4 + 9 = \end{array}$$

6.-Completas los cuadros en blanco.

3	+	<input type="text"/>	=	9		5	+	<input type="text"/>	=	7
4	+	<input type="text"/>	=	8		5	+	<input type="text"/>	=	9
3	+	<input type="text"/>	=	6		2	+	<input type="text"/>	=	7
3	+	<input type="text"/>	=	6		5	+	<input type="text"/>	=	10
1	+	<input type="text"/>	=	7		5	+	<input type="text"/>	=	7

7.-Completas los cuadros en blanco.

Imágenes Educativas.com

8	-	<input type="text"/>	=	3		5	-	<input type="text"/>	=	5
6	-	<input type="text"/>	=	4		7	-	<input type="text"/>	=	4
7	-	<input type="text"/>	=	2		8	-	<input type="text"/>	=	3
8	-	<input type="text"/>	=	5		7	-	<input type="text"/>	=	5
9	-	<input type="text"/>	=	1		5	-	<input type="text"/>	=	3
8	-	<input type="text"/>	=	4		9	-	<input type="text"/>	=	2
7	-	<input type="text"/>	=	3		9	-	<input type="text"/>	=	1

1.- Escribe con letra los siguientes números

8 _____
 1 _____
 6 _____
 9 _____
 5 _____

Imágenes Educativas.com

2.-Escribe el anterior y el posterior

_____	2	_____	_____	8	_____
_____	9	_____	_____	7	_____
_____	3	_____	_____	7	_____
_____	9	_____	_____	9	_____
_____	6	_____	_____	2	_____

3.-Coloca el signo correspondiente: < = >

6	_____	6	_____	2	_____	5
3	_____	2	_____	3	_____	8
4	_____	7	_____	4	_____	7
1	_____	4	_____	2	_____	5


4.-Dibuja tantos palitos como indica el número

2	_____	6	_____
3	_____	3	_____
4	_____	9	_____
9	_____	1	_____

5.-Realiza las siguientes operaciones


$$\begin{array}{r} 2 + 5 + 4 + 2 = \\ 6 + 6 + 1 + 9 = \\ 5 + 6 + 3 + 6 = \\ 3 + 4 + 4 + 9 = \\ 4 + 9 + 3 + 5 = \end{array}$$

6.-Completas los cuadros en blanco.

2	+	<input type="text"/>	=	6		4	+	<input type="text"/>	=	8
5	+	<input type="text"/>	=	7		1	+	<input type="text"/>	=	6
1	+	<input type="text"/>	=	10		4	+	<input type="text"/>	=	8
3	+	<input type="text"/>	=	7		5	+	<input type="text"/>	=	8
5	+	<input type="text"/>	=	8		4	+	<input type="text"/>	=	7

7.-Completas los cuadros en blanco.

Imágenes Educativas.com

5	-	<input type="text"/>	=	4		6	-	<input type="text"/>	=	3
8	-	<input type="text"/>	=	3		5	-	<input type="text"/>	=	4
7	-	<input type="text"/>	=	4		9	-	<input type="text"/>	=	2
8	-	<input type="text"/>	=	5		8	-	<input type="text"/>	=	3
8	-	<input type="text"/>	=	1		7	-	<input type="text"/>	=	3
5	-	<input type="text"/>	=	5		6	-	<input type="text"/>	=	4
6	-	<input type="text"/>	=	2		7	-	<input type="text"/>	=	2

1.- Escribe con letra los siguientes números

1	_____
8	_____
2	_____
5	_____
7	_____

Imágenes
Educativas.com

2.-Escribe el anterior y el posterior

_____	5	_____	_____	6	_____
_____	5	_____	_____	8	_____
_____	5	_____	_____	4	_____
_____	9	_____	_____	5	_____
_____	2	_____	_____	5	_____

3.-Coloca el signo correspondiente: < = >

7	_____	8	_____	3	_____	4
8	_____	1	_____	3	_____	6
5	_____	5	_____	1	_____	8
8	_____	3	_____	3	_____	5


4.-Dibuja tantos palitos como indica el número

3	_____	4	_____
3	_____	6	_____
3	_____	1	_____
7	_____	2	_____

5.-Realiza las siguientes operaciones


$$\begin{array}{r} 9 + 5 + 1 + 4 = \\ 8 + 2 + 1 + 4 = \\ 5 + 5 + 5 + 6 = \\ 2 + 7 + 4 + 1 = \\ 7 + 4 + 1 + 9 = \end{array}$$

6.-Completas los cuadros en blanco.

5	+	<input type="text"/>	=	8		2	+	<input type="text"/>	=	10
3	+	<input type="text"/>	=	10		3	+	<input type="text"/>	=	8
1	+	<input type="text"/>	=	8		1	+	<input type="text"/>	=	9
4	+	<input type="text"/>	=	7		5	+	<input type="text"/>	=	9
5	+	<input type="text"/>	=	10		5	+	<input type="text"/>	=	6

Imágenes Educativas.com

7.-Completas los cuadros en blanco.

8	-	<input type="text"/>	=	4		5	-	<input type="text"/>	=	3
6	-	<input type="text"/>	=	5		9	-	<input type="text"/>	=	4
9	-	<input type="text"/>	=	2		5	-	<input type="text"/>	=	1
9	-	<input type="text"/>	=	2		9	-	<input type="text"/>	=	4
6	-	<input type="text"/>	=	5		6	-	<input type="text"/>	=	5
8	-	<input type="text"/>	=	2		6	-	<input type="text"/>	=	3
8	-	<input type="text"/>	=	1		5	-	<input type="text"/>	=	5

1.- Escribe con letra los siguientes números

2 _____
 5 _____
 8 _____
 1 _____
 5 _____



2.-Escribe el anterior y el posterior

_____	7	_____	_____	6	_____
_____	7	_____	_____	8	_____
_____	8	_____	_____	8	_____
_____	4	_____	_____	3	_____
_____	9	_____	_____	9	_____

3.-Coloca el signo correspondiente: < = >

1	_____	2	_____	4	_____	3
2	_____	9	_____	7	_____	4
3	_____	5	_____	9	_____	3
3	_____	4	_____	7	_____	6


4.-Dibuja tantos palitos como indica el número

1	_____	8	_____
7	_____	7	_____
1	_____	8	_____
6	_____	2	_____

5.-Realiza las siguientes operaciones


$$\begin{array}{r} 2 + 3 + 5 + 3 = \\ 8 + 4 + 1 + 4 = \\ 3 + 8 + 4 + 1 = \\ 8 + 7 + 4 + 1 = \\ 1 + 1 + 4 + 8 = \end{array}$$

6.-Completas los cuadros en blanco.

4	+	<input type="text"/>	=	8		1	+	<input type="text"/>	=	8
5	+	<input type="text"/>	=	10		2	+	<input type="text"/>	=	8
2	+	<input type="text"/>	=	9		5	+	<input type="text"/>	=	7
1	+	<input type="text"/>	=	6		2	+	<input type="text"/>	=	6
2	+	<input type="text"/>	=	7		5	+	<input type="text"/>	=	9

7.-Completas los cuadros en blanco.

Imágenes Educativas.com

5	-	<input type="text"/>	=	1		7	-	<input type="text"/>	=	1
8	-	<input type="text"/>	=	3		9	-	<input type="text"/>	=	5
9	-	<input type="text"/>	=	4		6	-	<input type="text"/>	=	3
8	-	<input type="text"/>	=	4		8	-	<input type="text"/>	=	5
5	-	<input type="text"/>	=	3		8	-	<input type="text"/>	=	5
6	-	<input type="text"/>	=	5		9	-	<input type="text"/>	=	5
7	-	<input type="text"/>	=	2		6	-	<input type="text"/>	=	4

1.- Escribe con letra los siguientes números

7 _____
 2 _____
 2 _____
 6 _____
 9 _____



2.-Escribe el anterior y el posterior

_____		_____	_____	7	_____
_____	6	_____	_____	9	_____
_____	5	_____	_____	8	_____
_____	4	_____	_____	8	_____
_____		_____	_____	7	_____

3.-Coloca el signo correspondiente: < = >

2	_____	7	_____	3	_____	6
4	_____	8	_____	4	_____	8
9	_____	3	_____	8	_____	2
6	_____	1	_____	6	_____	1


4.-Dibuja tantos palitos como indica el número

5	_____	6	_____
9	_____	6	_____
5	_____	5	_____
1	_____	3	_____

5.-Realiza las siguientes operaciones


$$\begin{array}{r} 4 + 9 + 3 + 5 = \\ 8 + 7 + 4 + 8 = \\ 8 + 2 + 1 + 7 = \\ 8 + 9 + 1 + 3 = \\ 1 + 8 + 1 + 6 = \end{array}$$

6.-Completas los cuadros en blanco.

2	+	<input type="text"/>	=	9		5	+	<input type="text"/>	=	9
2	+	<input type="text"/>	=	9		2	+	<input type="text"/>	=	10
3	+	<input type="text"/>	=	6		2	+	<input type="text"/>	=	7
5	+	<input type="text"/>	=	10		1	+	<input type="text"/>	=	7
1	+	<input type="text"/>	=	6		5	+	<input type="text"/>	=	10

7.-Completas los cuadros en blanco.

Imágenes Educativas.com

9	-	<input type="text"/>	=	3		7	-	<input type="text"/>	=	1
8	-	<input type="text"/>	=	3		5	-	<input type="text"/>	=	5
6	-	<input type="text"/>	=	4		9	-	<input type="text"/>	=	2
6	-	<input type="text"/>	=	4		8	-	<input type="text"/>	=	1
9	-	<input type="text"/>	=	3		6	-	<input type="text"/>	=	1
7	-	<input type="text"/>	=	3		8	-	<input type="text"/>	=	2
6	-	<input type="text"/>	=	3		7	-	<input type="text"/>	=	4

1.- Escribe con letra los siguientes números

7 _____
9 _____
5 _____
2 _____
1 _____



2.-Escribe el anterior y el posterior

_____	8	_____	_____	5	_____
_____	6	_____	_____	4	_____
_____	4	_____	_____	1	_____
_____	6	_____	_____	6	_____
_____	2	_____	_____	1	_____

3.-Coloca el signo correspondiente: < = >

9	_____	2	_____	9	_____	3
8	_____	5	_____	3	_____	8
9	_____	8	_____	9	_____	4
8	_____	7	_____	5	_____	4


4.-Dibuja tantos palitos como indica el número

4	_____	2	_____
6	_____	6	_____
5	_____	6	_____
6	_____	6	_____

5.-Realiza las siguientes operaciones


$$\begin{array}{r} 3 + 4 + 4 + 9 = \\ 3 + 4 + 2 + 5 = \\ 2 + 8 + 4 + 6 = \\ 8 + 3 + 5 + 5 = \\ 8 + 3 + 2 + 2 = \end{array}$$

6.-Completas los cuadros en blanco.

4	+	<input type="text"/>	=	8		3	+	<input type="text"/>	=	7
4	+	<input type="text"/>	=	10		2	+	<input type="text"/>	=	6
4	+	<input type="text"/>	=	8		4	+	<input type="text"/>	=	6
5	+	<input type="text"/>	=	6		3	+	<input type="text"/>	=	8
4	+	<input type="text"/>	=	10		4	+	<input type="text"/>	=	7

7.-Completas los cuadros en blanco.

Imágenes Educativas.com

7	-	<input type="text"/>	=	3		9	-	<input type="text"/>	=	4
6	-	<input type="text"/>	=	1		8	-	<input type="text"/>	=	5
6	-	<input type="text"/>	=	1		9	-	<input type="text"/>	=	2
5	-	<input type="text"/>	=	4		6	-	<input type="text"/>	=	2
5	-	<input type="text"/>	=	4		7	-	<input type="text"/>	=	3
8	-	<input type="text"/>	=	3		5	-	<input type="text"/>	=	4
7	-	<input type="text"/>	=	2		6	-	<input type="text"/>	=	4

1.- Escribe con letra los siguientes números

3 _____
 4 _____
 9 _____
 6 _____
 1 _____



2.-Escribe el anterior y el posterior

_____	5	_____	_____	9	_____
_____	8	_____	_____	3	_____
_____	9	_____	_____	2	_____
_____	1	_____	_____	3	_____
_____	9	_____	_____	5	_____

3.-Coloca el signo correspondiente: < = >

1	_____	4	_____	2	_____	7
3	_____	5	_____	6	_____	1
3	_____	1	_____	5	_____	5
3	_____	8	_____	1	_____	9


4.-Dibuja tantos palitos como indica el número

2	_____	9	_____
4	_____	9	_____
9	_____	9	_____
4	_____	9	_____

5.-Realiza las siguientes operaciones


$$\begin{array}{r} 9 + 4 + 4 + 1 = \\ 4 + 1 + 1 + 3 = \\ 7 + 2 + 4 + 6 = \\ 2 + 3 + 5 + 5 = \\ 9 + 8 + 5 + 7 = \end{array}$$

6.-Completas los cuadros en blanco.

4	+	<input type="text"/>	=	7		3	+	<input type="text"/>	=	10
5	+	<input type="text"/>	=	6		1	+	<input type="text"/>	=	10
4	+	<input type="text"/>	=	9		4	+	<input type="text"/>	=	9
4	+	<input type="text"/>	=	7		5	+	<input type="text"/>	=	10
5	+	<input type="text"/>	=	7		2	+	<input type="text"/>	=	10

7.-Completas los cuadros en blanco.

Imágenes Educativas.com

6	-	<input type="text"/>	=	2		9	-	<input type="text"/>	=	3
8	-	<input type="text"/>	=	2		9	-	<input type="text"/>	=	5
7	-	<input type="text"/>	=	5		9	-	<input type="text"/>	=	4
7	-	<input type="text"/>	=	2		8	-	<input type="text"/>	=	2
9	-	<input type="text"/>	=	1		8	-	<input type="text"/>	=	3
7	-	<input type="text"/>	=	5		7	-	<input type="text"/>	=	2
9	-	<input type="text"/>	=	3		6	-	<input type="text"/>	=	2

1.- Escribe con letra los siguientes números

7 _____
 9 _____
 5 _____
 9 _____
 9 _____



2.-Escribe el anterior y el posterior

_____	7	_____	_____	6	_____
_____	5	_____	_____	1	_____
_____	6	_____	_____	8	_____
_____	1	_____	_____	8	_____
_____	6	_____	_____	3	_____

3.-Coloca el signo correspondiente: < = >

9	_____	6	_____	8	_____	9
1	_____	9	_____	7	_____	8
6	_____	5	_____	5	_____	1
6	_____	8	_____	7	_____	1


4.-Dibuja tantos palitos como indica el número

2	_____	2	_____
5	_____	7	_____
7	_____	1	_____
8	_____	4	_____

5.-Realiza las siguientes operaciones


$$\begin{array}{r} 9 + 3 + 3 + 5 = \\ 5 + 3 + 3 + 3 = \\ 7 + 5 + 3 + 2 = \\ 1 + 7 + 3 + 3 = \\ 1 + 7 + 3 + 5 = \end{array}$$

6.-Completas los cuadros en blanco.

4	+	<input type="text"/>	=	8		3	+	<input type="text"/>	=	7
4	+	<input type="text"/>	=	7		5	+	<input type="text"/>	=	7
5	+	<input type="text"/>	=	7		5	+	<input type="text"/>	=	8
4	+	<input type="text"/>	=	6		3	+	<input type="text"/>	=	10
1	+	<input type="text"/>	=	9		4	+	<input type="text"/>	=	6

7.-Completas los cuadros en blanco.

Imágenes Educativas.com

6	-	<input type="text"/>	=	2		7	-	<input type="text"/>	=	5
8	-	<input type="text"/>	=	1		8	-	<input type="text"/>	=	2
6	-	<input type="text"/>	=	5		7	-	<input type="text"/>	=	3
5	-	<input type="text"/>	=	5		8	-	<input type="text"/>	=	3
7	-	<input type="text"/>	=	3		5	-	<input type="text"/>	=	2
8	-	<input type="text"/>	=	1		6	-	<input type="text"/>	=	1
6	-	<input type="text"/>	=	4		5	-	<input type="text"/>	=	4

1.- Escribe con letra los siguientes números

6 _____
 1 _____
 2 _____
 5 _____
 3 _____

Imágenes
Educativas.com

2.-Escribe el anterior y el posterior

_____	2	_____	_____	5	_____
_____	2	_____	_____	1	_____
_____	3	_____	_____	5	_____
_____	5	_____	_____	4	_____
_____	9	_____	_____	8	_____

3.-Coloca el signo correspondiente: < = >

3	_____	7	_____	6	_____	3
5	_____	3	_____	8	_____	5
3	_____	4	_____	3	_____	3
1	_____	3	_____	5	_____	2


4.-Dibuja tantos palitos como indica el número

5	_____	5	_____
8	_____	3	_____
6	_____	7	_____
6	_____	3	_____

5.-Realiza las siguientes operaciones


$$\begin{array}{r} 4 + 7 + 5 + 5 = \\ 7 + 2 + 3 + 6 = \\ 3 + 5 + 5 + 2 = \\ 4 + 6 + 5 + 8 = \\ 5 + 4 + 4 + 7 = \end{array}$$

6.-Completas los cuadros en blanco.

5	+	<input type="text"/>	=	7		3	+	<input type="text"/>	=	7
2	+	<input type="text"/>	=	9		4	+	<input type="text"/>	=	9
5	+	<input type="text"/>	=	10		2	+	<input type="text"/>	=	7
1	+	<input type="text"/>	=	10		2	+	<input type="text"/>	=	8
4	+	<input type="text"/>	=	6		3	+	<input type="text"/>	=	7

7.-Completas los cuadros en blanco.

Imágenes Educativas.com

7	-	<input type="text"/>	=	4		6	-	<input type="text"/>	=	2
8	-	<input type="text"/>	=	1		6	-	<input type="text"/>	=	3
9	-	<input type="text"/>	=	3		5	-	<input type="text"/>	=	3
8	-	<input type="text"/>	=	2		9	-	<input type="text"/>	=	1
7	-	<input type="text"/>	=	4		5	-	<input type="text"/>	=	2
6	-	<input type="text"/>	=	5		5	-	<input type="text"/>	=	4
7	-	<input type="text"/>	=	2		5	-	<input type="text"/>	=	2

1.- Escribe con letra los siguientes números

8 _____
 3 _____
 5 _____
 4 _____
 3 _____

Imágenes Educativas.com

2.-Escribe el anterior y el posterior

_____	1	_____	_____	9	_____
_____	5	_____	_____	7	_____
_____	7	_____	_____	3	_____
_____	5	_____	_____	4	_____
_____	2	_____	_____	2	_____

3.-Coloca el signo correspondiente: < = >

2	_____	5	_____	3	_____	4
7	_____	1	_____	5	_____	9
3	_____	9	_____	9	_____	4
3	_____	4	_____	4	_____	9


4.-Dibuja tantos palitos como indica el número

9	_____	6	_____
9	_____	1	_____
9	_____	4	_____
3	_____	2	_____

5.-Realiza las siguientes operaciones


$$\begin{array}{r} 9 + 1 + 5 + 1 = \\ 6 + 7 + 2 + 3 = \\ 8 + 6 + 4 + 5 = \\ 1 + 7 + 4 + 8 = \\ 3 + 1 + 3 + 7 = \end{array}$$

6.-Completas los cuadros en blanco.

4	+	<input type="text"/>	=	7		1	+	<input type="text"/>	=	9
3	+	<input type="text"/>	=	6		5	+	<input type="text"/>	=	8
5	+	<input type="text"/>	=	7		4	+	<input type="text"/>	=	7
3	+	<input type="text"/>	=	10		1	+	<input type="text"/>	=	8
5	+	<input type="text"/>	=	10		4	+	<input type="text"/>	=	8

7.-Completas los cuadros en blanco.

Imágenes Educativas.com

8	-	<input type="text"/>	=	3		6	-	<input type="text"/>	=	4
9	-	<input type="text"/>	=	3		9	-	<input type="text"/>	=	4
9	-	<input type="text"/>	=	1		9	-	<input type="text"/>	=	3
5	-	<input type="text"/>	=	5		7	-	<input type="text"/>	=	4
7	-	<input type="text"/>	=	1		8	-	<input type="text"/>	=	5
5	-	<input type="text"/>	=	4		7	-	<input type="text"/>	=	5
6	-	<input type="text"/>	=	2		7	-	<input type="text"/>	=	3

1.- Escribe con letra los siguientes números

8 _____
 2 _____
 4 _____
 4 _____
 6 _____

Imágenes Educativas.com

2.-Escribe el anterior y el posterior

_____		_____	_____	6	_____
_____	2	_____	_____	6	_____
_____	7	_____	_____	6	_____
_____	8	_____	_____	4	_____
_____		_____	_____	1	_____

3.-Coloca el signo correspondiente: < = >

3	_____	3	_____	7	_____	8
9	_____	9	_____	7	_____	4
1	_____	8	_____	5	_____	2
2	_____	7	_____	8	_____	5


4.-Dibuja tantos palitos como indica el número

2	_____	7	_____
3	_____	4	_____
1	_____	4	_____
9	_____	3	_____

5.-Realiza las siguientes operaciones


$$\begin{array}{r} 2 + 9 + 1 + 5 = \\ 9 + 2 + 2 + 1 = \\ 7 + 9 + 3 + 3 = \\ 6 + 2 + 2 + 6 = \\ 6 + 5 + 5 + 7 = \end{array}$$

6.-Completas los cuadros en blanco.

2	+	<input type="text"/>	=	6		1	+	<input type="text"/>	=	8
2	+	<input type="text"/>	=	9		3	+	<input type="text"/>	=	7
5	+	<input type="text"/>	=	10		4	+	<input type="text"/>	=	8
4	+	<input type="text"/>	=	8		1	+	<input type="text"/>	=	8
1	+	<input type="text"/>	=	7		2	+	<input type="text"/>	=	8

7.-Completas los cuadros en blanco.

Imágenes Educativas.com

7	-	<input type="text"/>	=	5		7	-	<input type="text"/>	=	1
9	-	<input type="text"/>	=	2		8	-	<input type="text"/>	=	3
5	-	<input type="text"/>	=	2		8	-	<input type="text"/>	=	5
8	-	<input type="text"/>	=	2		8	-	<input type="text"/>	=	1
8	-	<input type="text"/>	=	2		8	-	<input type="text"/>	=	3
8	-	<input type="text"/>	=	4		7	-	<input type="text"/>	=	4
6	-	<input type="text"/>	=	2		6	-	<input type="text"/>	=	4

1.- Escribe con letra los siguientes números

6 _____
 3 _____
 7 _____
 1 _____
 5 _____



2.-Escribe el anterior y el posterior

_____	9	_____	_____	8	_____
_____	6	_____	_____	4	_____
_____	9	_____	_____	5	_____
_____	3	_____	_____	7	_____
_____	1	_____	_____	5	_____

3.-Coloca el signo correspondiente: < = >

5	_____	1	_____	9	_____	6
3	_____	9	_____	6	_____	4
4	_____	3	_____	5	_____	4
2	_____	9	_____	9	_____	2


4.-Dibuja tantos palitos como indica el número

7	_____	4	_____
9	_____	8	_____
2	_____	8	_____
5	_____	7	_____

5.-Realiza las siguientes operaciones


$$\begin{array}{r} 9 + 5 + 4 + 6 = \\ 2 + 5 + 5 + 9 = \\ 1 + 8 + 1 + 4 = \\ 7 + 9 + 1 + 2 = \\ 5 + 7 + 3 + 5 = \end{array}$$

6.-Completas los cuadros en blanco.

3	+	<input type="text"/>	=	10		3	+	<input type="text"/>	=	8
3	+	<input type="text"/>	=	9		2	+	<input type="text"/>	=	8
3	+	<input type="text"/>	=	6		5	+	<input type="text"/>	=	9
4	+	<input type="text"/>	=	6		4	+	<input type="text"/>	=	9
3	+	<input type="text"/>	=	7		4	+	<input type="text"/>	=	10

7.-Completas los cuadros en blanco.

Imágenes Educativas.com

6	-	<input type="text"/>	=	2		8	-	<input type="text"/>	=	3
5	-	<input type="text"/>	=	1		7	-	<input type="text"/>	=	4
7	-	<input type="text"/>	=	3		5	-	<input type="text"/>	=	2
6	-	<input type="text"/>	=	2		8	-	<input type="text"/>	=	2
9	-	<input type="text"/>	=	1		7	-	<input type="text"/>	=	5
8	-	<input type="text"/>	=	2		8	-	<input type="text"/>	=	3
7	-	<input type="text"/>	=	3		6	-	<input type="text"/>	=	3