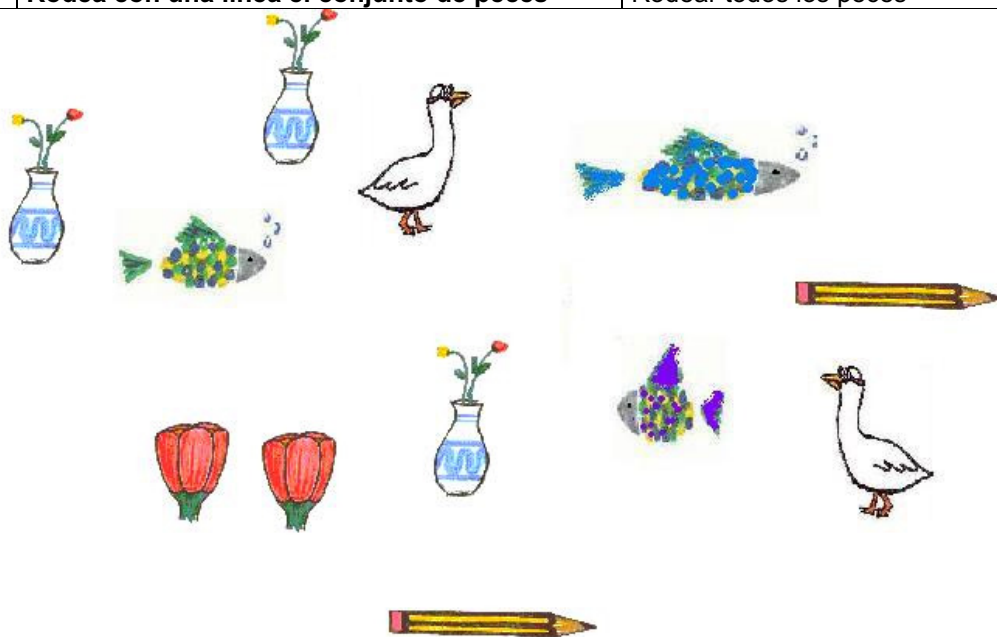



NUMERACIÓN

Formar grupos de forma dirigida con un criterio		
ID	PREGUNTA	CRITERIO
507	Rodea con una línea el conjunto de peces	Rodear todos los peces



Realizar correspondencias con grupos de diferente número de elementos		
ID	PREGUNTA	CRITERIO
508	Dale a cada perrito un hueso	Cada perrito relacionado con un sólo hueso



Clasificar elementos por el criterio de negación y utilidad		
ID	PREGUNTA	CRITERIO
509	Marca las cosas que sirven para comer	Marcar 5 frutas



Seriación con modelo de 3 elementos alternos		
ID	PREGUNTA	CRITERIO
510	Continúa las tres series siguientes	Realizar las 3 series correctamente



Anterior y posterior de números comprendidos entre el 0 y el 9		
ID	PREGUNTA	CRITERIO
511	¿Qué números faltan? ¿Cuál va antes? ¿Cuál va después?	Responder correctamente 3 de 4

_____ 7 _____ ; _____ 5 _____
 _____ 8 _____ ; _____ 1 _____

Dictado y lectura de números comprendidos entre el 0 y el 9		
ID	PREGUNTA	CRITERIO
512	a) Escribe los siguientes números: uno, dos, tres, cuatro, seis, siete, ocho, nueve, cero. b) Rodea los números a medida que te los vaya diciendo: cero, seis, siete, cinco, cuatro, ocho, nueve, dos, tres.	a) Escribir correctamente 8 de los 9 b) Rodear correctamente 8 de los 9

6 1 4 0 2
 7 5 8 1 9
 6 3 5 7 0
 2 4 9 8 3

Asociar número cardinal con la cantidad (0-9)		
ID	PREGUNTA	CRITERIO
513	De estos números que tenemos aquí ¿Cuál corresponde a cada uno de los conjuntos?	Asignar correctamente 3 de 4

7 - 1 - 8 - 6

Ordenar de menor a mayor números del 0 al 9		
ID	PREGUNTA	CRITERIO
514	Mira estos números ¿Cuál es el más pequeño? ¿y luego?	Ordenar correctamente (máximo un error)

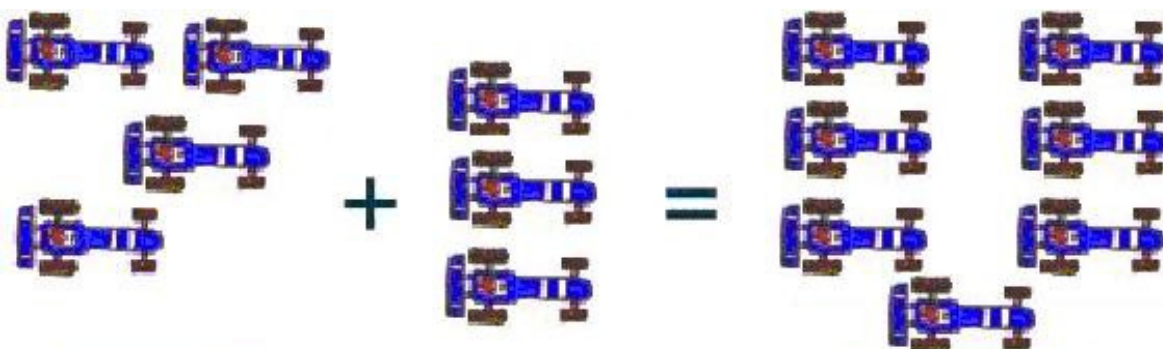

7 - 9 - 8 - 0 - 2 - 5 - 4 - 6 - 1 - 3

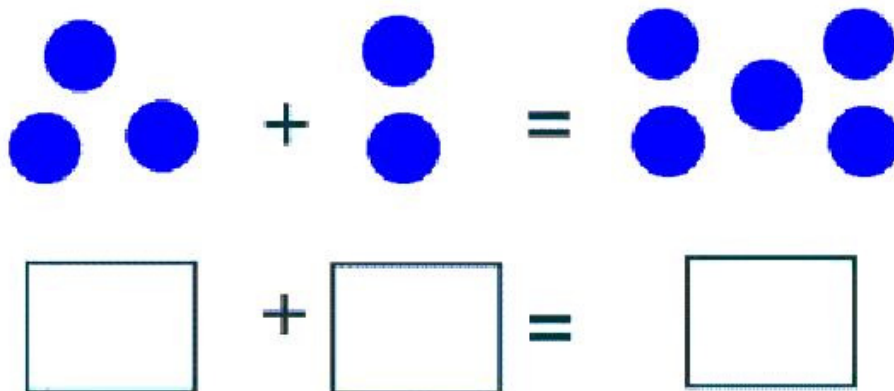
Ordinales: primero, segundo, tercero y último		
ID	PREGUNTA	CRITERIO
515	Dime cuál de estos barcos es el primero en llegar a la meta ¿Y el segundo? ¿Y el tercero? ¿Cuál es el último?	Señalar correctamente



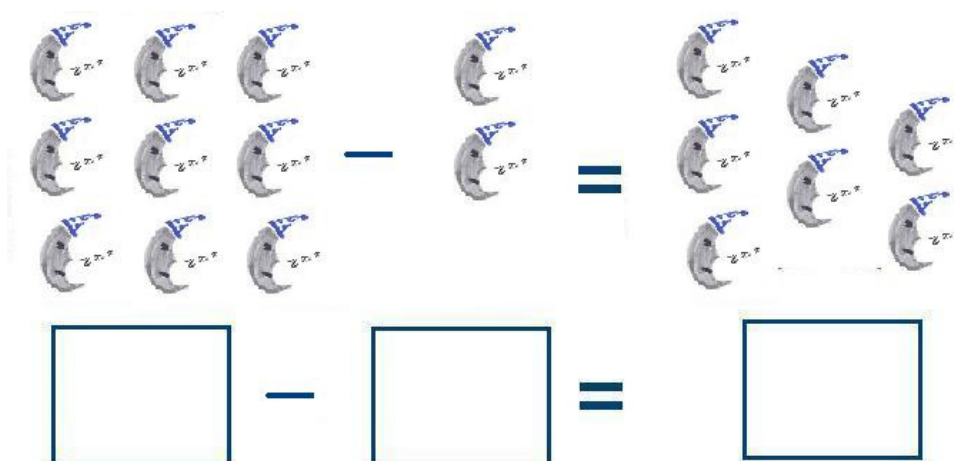
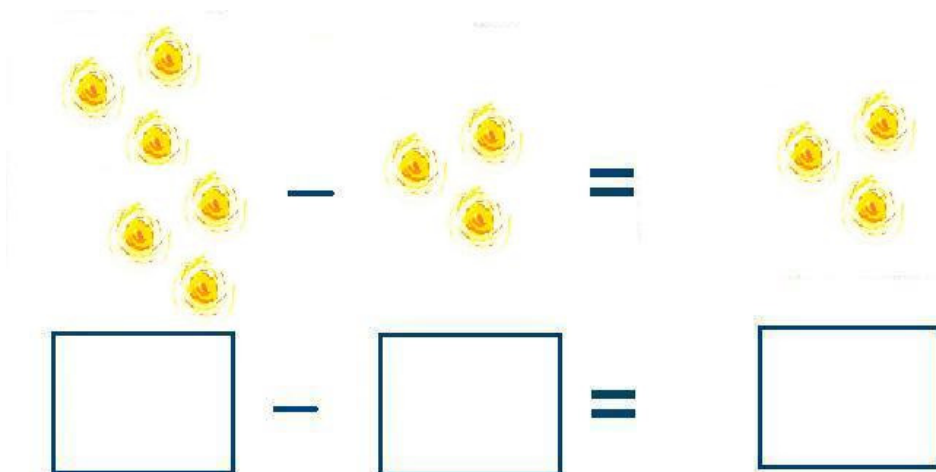
OPERACIONES

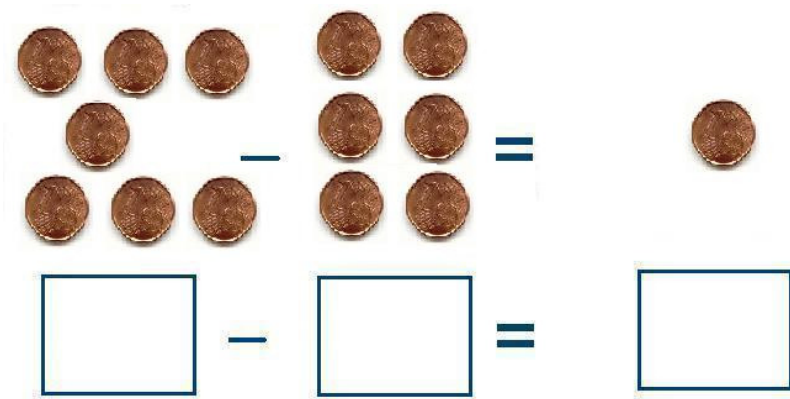
Suma gráfica oral (0-9)		
ID	PREGUNTA	CRITERIO
518	Escribe el número que corresponda en cada cuadrado y los dibujos que faltan	Realizar correctamente 2 de 3





Resta gráfica oral (0-9)		
ID	PREGUNTA	CRITERIO
519	Completa los cuadros con números	Realizar correctamente 2 de 3

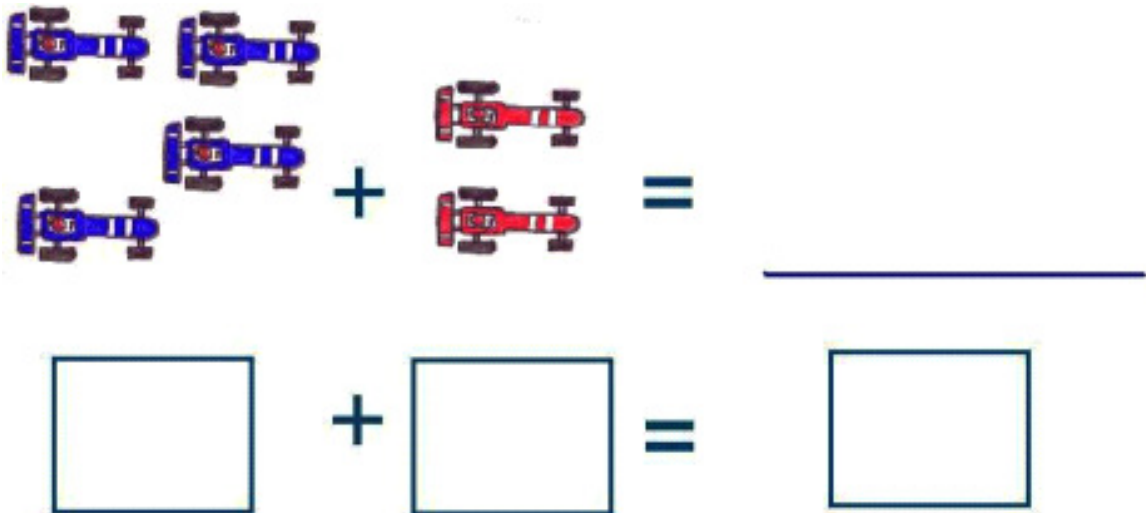




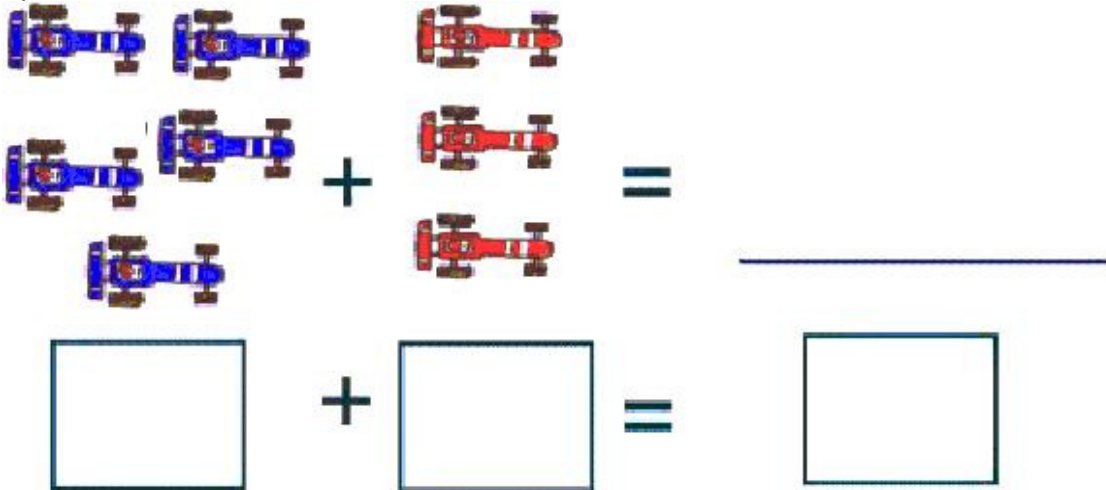
PROBLEMAS

Solucionar problemas sencillos a nivel gráfico (suma 0-9)		
ID	PREGUNTA	CRITERIO
528	Si los juntamos ¿Cuántos coches hay en total?	Realizar correctamente uno de los dos

A)

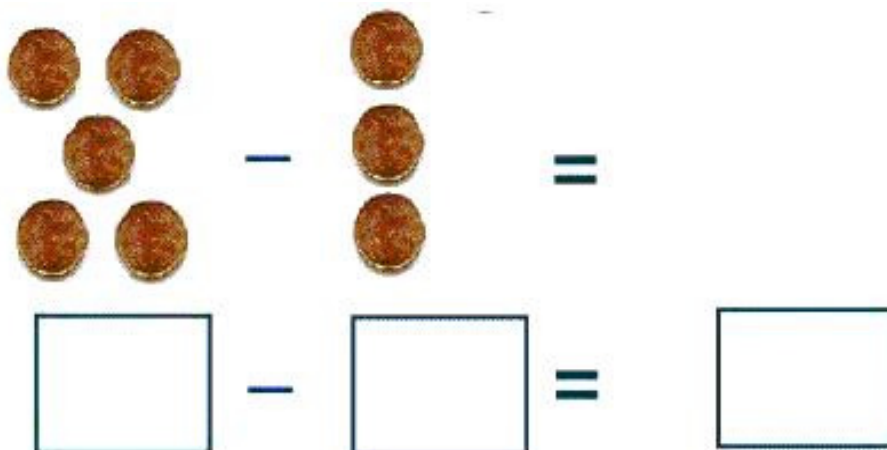


B)

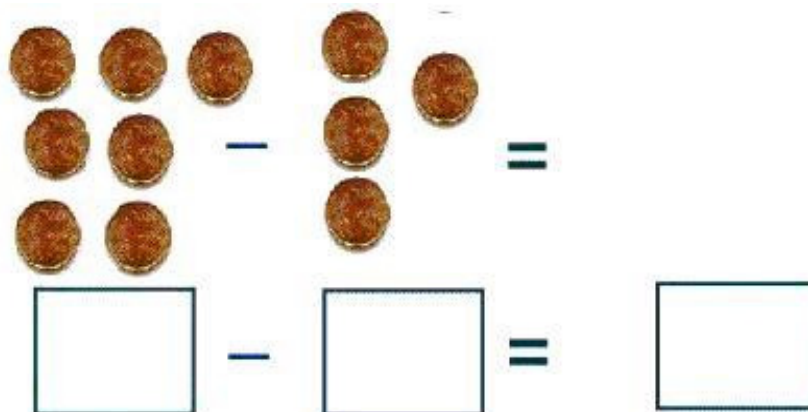


Solucionar problemas sencillos a nivel gráfico (resta 0-9)		
ID	PREGUNTA	CRITERIO
529	¿Cuántas monedas hay si le quitamos estas? Se señala el dibujo	Realizar correctamente una de las dos

A)




B)



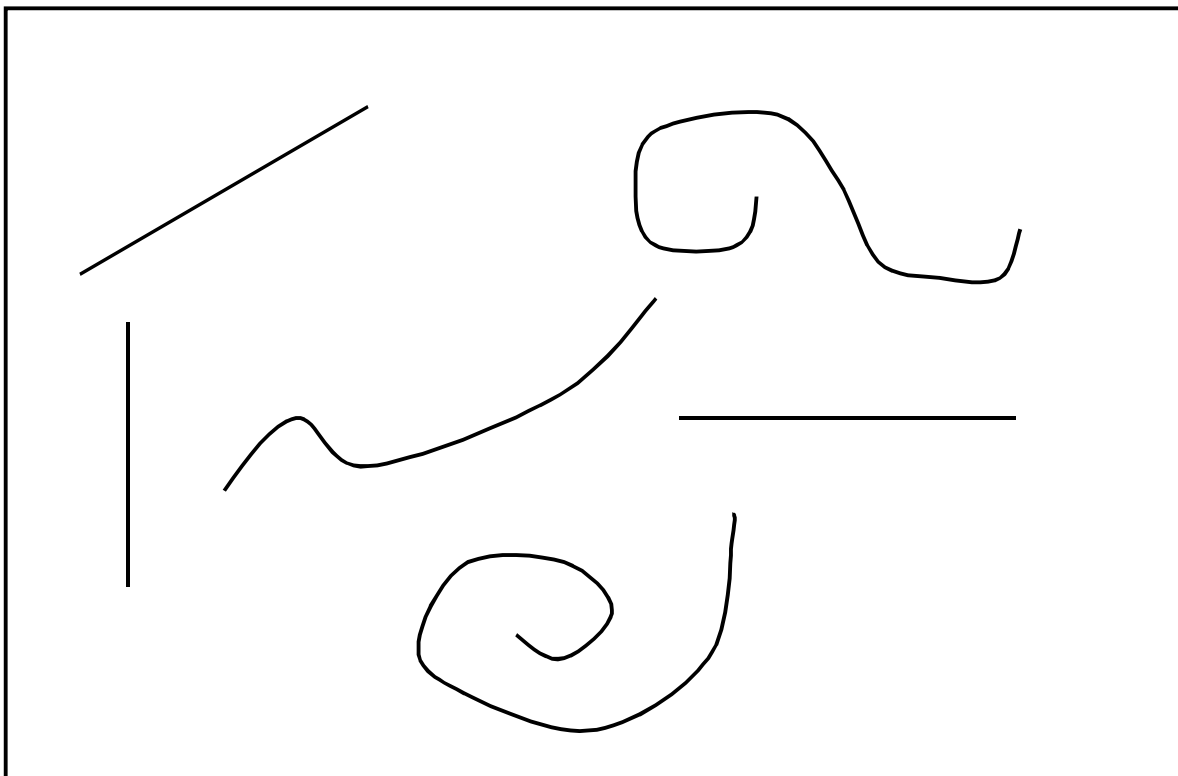
TOPOLOGÍA-GEOMETRÍA

Situación de objetos en el espacio respecto a él mismo y a otros objetos		
ID	PREGUNTA	CRITERIO
535	Coloca la goma: a) Dentro-Fuera (del bolsillo) b) Arriba-Abajo (de la cabeza) c) Delante-Detrás (del cuerpo) d) Cerca-Lejos (de tí) e) Encima-Debajo (de la mesa) f) Derecha (de tí, a tu derecha)	Situación de objetos correctamente según los 11 criterios

Reconocer y dibujar formas (cuadrado, círculo, triángulo, rectángulo)		
ID	PREGUNTA	CRITERIO
536	<p>a) Pinta de color rojo los triángulos, de verde los círculos (redondos), de azul los cuadrados y de amarillo los rectángulos</p> <p>b) Dibuja un triángulo, un círculo, un cuadrado y un rectángulo.</p>	Dibujar correctamente 3 de las 4 figuras que le pedimos



Reconocer líneas curvas y rectas		
ID	PREGUNTA	CRITERIO
537	Dime de las siguientes líneas ¿cuáles son rectas y cuáles curvas?	Identificar 6 líneas correctamente



MEDIDAS

Se muestran las láminas del anexo. Conceptos básicos: ancho-estrecho, grueso-delgado, entero-partido-mitad, antes-después, dentro-fuera, encima-debajo, parecido-distinto-igual		
ID	PREGUNTA	CRITERIO
541	Señala lo que te indique: a) La letra más ancha b) Aquello que indica la mitad c) Lo que pasa después d) El gusano que está a través de la caja e) El pez que es distinto f) Las frutas (gatos) que son iguales g) La sandía que está fuera del cuadro	Responder de forma correcta 4 de 5

Medidas naturales de longitud: palmo		
ID	PREGUNTA	CRITERIO
542	Cuántos palmos tiene la mesa	Realizar correctamente la medición