


# TERCER TRIMESTRE

## Unidad 1. Lengua

AA

Nombre y apellidos: .....

Curso: ..... Fecha: .....

 Escribe las frases cambiando los nombres masculinos por femeninos.

El zapatero es amable.

---

---

---

Me gustan los gatos.

---

---

---


Mis amigos vinieron a casa.

---

---

---

 Escribe y dibuja lo que hiciste el fin de semana.



*Este fin de semana*

---

---

---

---

---

---

---

---

---

---

---

---

---

---

---



# TERCER TRIMESTRE

## Unidad 1. Conocimiento del Medio

**AA**

Nombre y apellidos: .....

Curso: ..... Fecha: .....

 Señala donde corresponda.

	PAISAJE LLUVIOSO	PAISAJE SOLEADO	PAISAJE VENTOSO	PAISAJE NUBLADO
				
				
				
				

 Tacha lo que no se debe hacer y escribe la frase.

Debo protegerme  
 No debo protegerme

del Sol.

---



---



---

No debemos  
 Debemos

ahorrar agua.

---



---



---

Conviene  
 No conviene

ventilar la casa.

---



---



---

# TERCER TRIMESTRE

## Unidad 2. Lengua

AA

Nombre y apellidos: .....

Curso: ..... Fecha: .....

📶 Completa los nombres con la letra que falta y escribe el plural de los que sean femeninos.

lámpar\_\_

teléfon\_\_

colegi\_\_

coch\_\_

bolígraf\_\_

mochil\_\_

mesill\_\_

estrell\_\_

regl\_\_

estuch\_\_


zapatill\_\_

cuadern\_\_

.....  
.....  
.....

.....  
.....  
.....

📶 Dibuja dónde te gustaría estar y describe el lugar.



.....  
.....  
.....

.....  
.....  
.....

.....  
.....  
.....



.....  
.....  
.....

Nombre y apellidos: .....

Curso: ..... Fecha: .....


 Problema.

En la tienda hay 37 latas de sardinas. Si se venden 15 latas, ¿cuántas latas quedan?



Quedan  latas de sardinas.

Hemos traído 8 latas más. ¿Cuántas latas hay ahora?



Ahora hay  latas de sardinas.

 Escribe los días de la semana.


# TERCER TRIMESTRE

## Unidad 2. Conocimiento del Medio

AA

Nombre y apellidos: .....

Curso: ..... Fecha: .....

 Une según corresponda.

La sardina es

un mamífero

El delfín es

un pez


El pez está cubierto

piel lisa

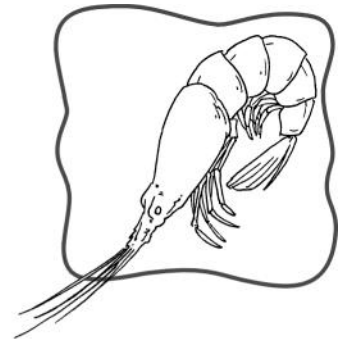
El mamífero marino tiene

de escamas

 Busca y rodea 3 animales marinos.



Q	S	C	E	S	N	R
H	G	A	M	B	A	T
B	E	L	S	E	S	D
C	M	A	N	S	N	F
A	J	M	T	U	B	T
L	E	A	S	G	S	Ñ
M	T	R	D	O	I	H
B	N	C	B	F	M	X
T	F	T	N	B	Ñ	V



**TERCER TRIMESTRE**  
**Unidad 3. Lengua**


**AA**


Nombre y apellidos: .....


Curso: ..... Fecha: .....


 Termina de escribir el cuento y dibuja.


En el fondo de un mar muy azul vivía  
una familia de sirenas.


Un día 






Al final 








# TERCER TRIMESTRE

## Unidad 3. Matemáticas

AA

Nombre y apellidos: .....

Curso: ..... Fecha: .....

 Escribe.

Voy detrás del cuarto 

Estoy entre el 5.º y el 7.º 


Voy delante de todos 

Estoy delante del 9.º 

Voy antes del 4.º 

Estoy entre el 6.º y el 8.º 

Voy detrás del 1.º 

 Calcula y completa.

48

3

12

76

52

93

29

80

91

Suma los tres números menores.


Resta al número mayor el que tiene 8 decenas.


Ordena de mayor a menor los números que no has utilizado.




# TERCER TRIMESTRE

## Unidad 3. Conocimiento del Medio


AA

Nombre y apellidos: .....

Curso: ..... Fecha: .....


 Dibuja una fruta de cada estación y escribe su nombre.

Primavera




Blank space for drawing a fruit from spring, with a spiral binding on the left and a writing area at the bottom.

Verano




Blank space for drawing a fruit from summer, with a spiral binding on the left and a writing area at the bottom.

Otoño



Blank space for drawing a fruit from autumn, with a spiral binding on the left and a writing area at the bottom.

Invierno



Blank space for drawing a fruit from winter, with a spiral binding on the left and a writing area at the bottom.

# TERCER TRIMESTRE

## Unidad 4. Lengua

AA

Nombre y apellidos: .....

Curso: ..... Fecha: .....

 Escribe las frases y corrige los verbos.

Ayer jugaremos al escondite.


.....  
.....  
.....

Ahora limpié el coche.

.....  
.....  
.....

Mañana estudié Lengua.

.....  
.....  
.....

 Escribe una carta a una persona que admires.

....., ..... de ..... de .....

.....

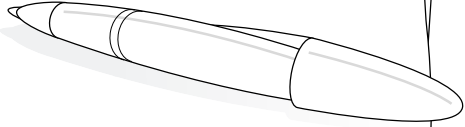
.....

.....

.....

.....

.....



# TERCER TRIMESTRE

## Unidad 4. Matemáticas

AA

Nombre y apellidos: .....


Curso: ..... Fecha: .....

### Problema.

He comprado un álbum de fotos que tiene 5 hojas. En cada hoja caben 4 fotos. ¿Cuántas fotos caben en total?

$$\square + \square + \square + \square + \square = \square$$

Caben  fotos en el álbum.



### Problema.

Para hacer la compra, he entrado en el supermercado a las 6 en punto y he salido a las 8 y media. Completa los relojes y contesta.

Entro



Son las 6  
en punto.

Salgo



Son las 8  
y media.

¿Cuánto he tardado en hacer la compra?

He tardado

# TERCER TRIMESTRE

## Unidad 4. Conocimiento del Medio

AA

Nombre y apellidos: .....

Curso: ..... Fecha: .....

 Completa las frases con estas palabras:

periódicos – noticias – publicidad

Los  nos informan con


escritas y fotografías.

Para anunciar cosas, llevan

.

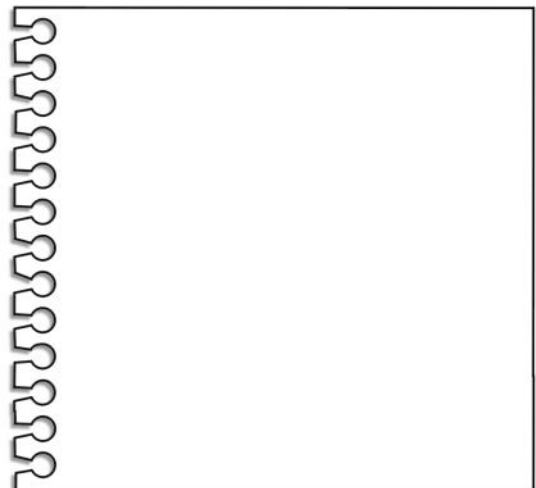
 Escribe un anuncio con estas palabras:

zumo. – bebe – crecer – Para – mucho

 Adivina lo que es y dibuja.


Me gusta entretener  
y verte disfrutar,  
elige el programa de niños,  
cambiando de canal.


Es la .




Nombre y apellidos: .....

Curso: ..... Fecha: .....


 Colorea, repasa las rayas y anota al lado de cada frase quién la dijo.



Diego



Pablo



Belén

—Yo iré a Palma en avión. →

—Pues yo montaré en barco por primera vez. →

—Mi viaje es fantástico, iré a Sevilla en tren. →

 Imagina quién hace cada cosa y completa las frases.

montamos en bici.

lee el periódico.

explica la lección.

# TERCER TRIMESTRE

## Unidad 5. Matemáticas

**AA**

Nombre y apellidos: .....

Curso: ..... Fecha: .....

### Problemas.

Cuatro amigos van a montar en barca. Cada uno tiene 45 céntimos, y el ticket de paseo en barca es de 20 céntimos por persona.

¿Tienen suficiente dinero para montar?

¿Pueden invitar cada uno a un amigo?

¿Cuánto les sobra a cada uno?

Si el paseo dura 1 hora y empieza a las 5 y media, ¿a qué hora termina?



A las

### Colorea.

A 1

rojo

C 3

verde

D 4

amarillo

B 2

azul

4				
3				
2				
1				
	A	B	C	D

D 1

rojo

C 2

azul

B 3

verde

A 4

amarillo

**TERCER TRIMESTRE**  
**Unidad 5. Conocimiento del Medio**

**AA**

Nombre y apellidos: .....

Curso: ..... Fecha: .....

 Completa las frases con estas palabras:

coche – barco – bici – avión

Monto en  y doy un paseo con mis amigos.

Voy con mis padres al pueblo en

.

Si voy muy lejos, monto en .

Este verano voy a una isla en  y veré delfines.

 Señala sí o no.

	Sí	No
Espero el tren en el andén .....	<input type="checkbox"/>	<input type="checkbox"/>
Los pasajeros del tren viajan en los vagones .....	<input type="checkbox"/>	<input type="checkbox"/>
El tren circula por el puerto .....	<input type="checkbox"/>	<input type="checkbox"/>
Los pasajeros del puerto embarcan en el muelle .....	<input type="checkbox"/>	<input type="checkbox"/>