


**PRIMER TRIMESTRE**  
**Unidad 1. Lengua**

**AA**

Nombre y apellidos: .....

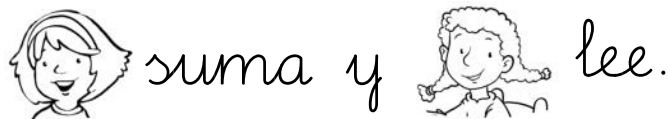
Curso: ..... Fecha: .....

 Sustituye los dibujos por palabras y escribe frases.



.....

.....




.....


.....



.....

.....

 Colorea y subraya la frase anterior que corresponda al dibujo.




**PRIMER TRIMESTRE**  
**Unidad 1. Matemáticas**

**AA**

Nombre y apellidos: .....

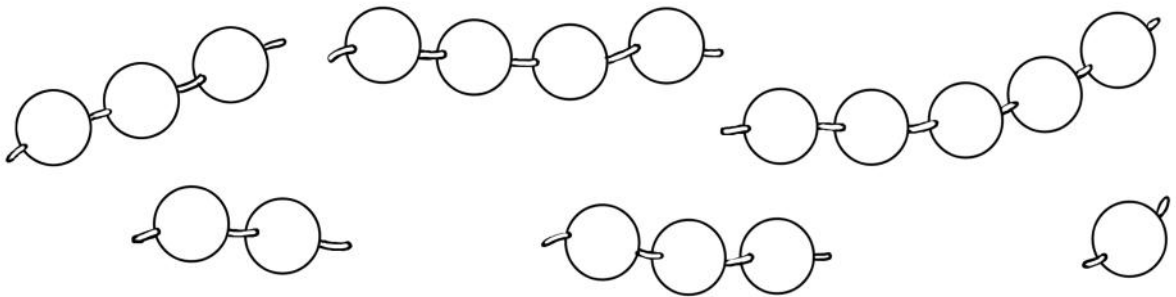
Curso: ..... Fecha: .....

 Colorea así:


Más de  → verde

Menos de  → rojo

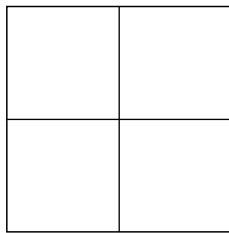
Tantas como  → amarillo




 Colorea tantos cuadrados como indica el número.




1



2

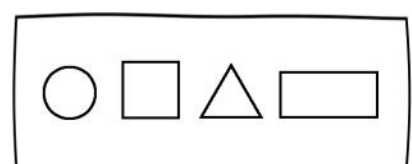
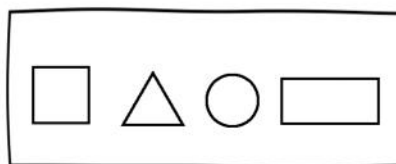


3



4

 Colorea el dibujo que sea igual al modelo.



# PRIMER TRIMESTRE

## Unidad 1. Conocimiento del Medio

AA

Nombre y apellidos: .....

Curso: ..... Fecha: .....

 Tacha lo que no se debe hacer y colorea lo que sí.



**PRIMER TRIMESTRE**  
**Unidad 2. Lengua**

**AA**

Nombre y apellidos: .....

Curso: ..... Fecha: .....


Lee, rodea y escribe el nombre de cada animal.

El oso Donoso monta en moto.


La osa Antonia patina en delantal.

El osito Alonsito lee una poesía.

La osita Luisita se pone unos pendientes.




.....  
.....  
.....



.....  
.....  
.....



.....  
.....  
.....



.....  
.....  
.....

# PRIMER TRIMESTRE

## Unidad 2. Matemáticas

AA

Nombre y apellidos: .....

Curso: ..... Fecha: .....




Colorea así:




verde



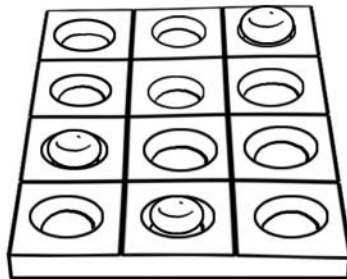
rojo



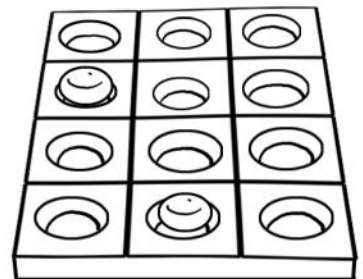
Dibuja y completa.



$$3 + \square = 6$$



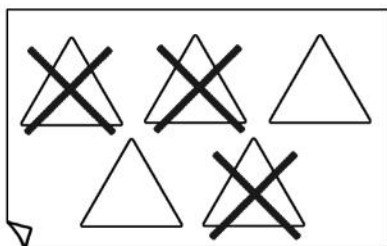
$$\square + \square = 5$$



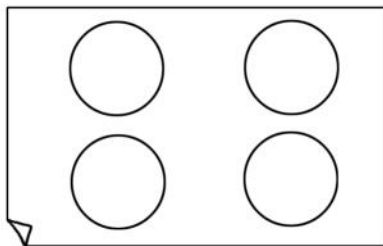
$$\square + \square = 4$$



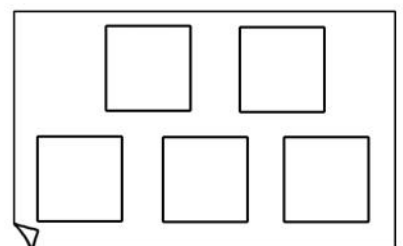
Completa.



$$5 - \square = 2$$



$$\square - \square = 0$$



$$\square - 1 = \square$$


**PRIMER TRIMESTRE**  
**Unidad 2. Conocimiento del Medio**

**AA**



Nombre y apellidos: .....

Curso: ..... Fecha: .....

Colorea de azul los frutos que tienen sabor dulce y de naranja los que tienen sabor ácido.



Ordena esta secuencia de menor a mayor edad:



Nombre y apellidos: .....

Curso: ..... Fecha: .....

Lee y tacha las frases que no correspondan.

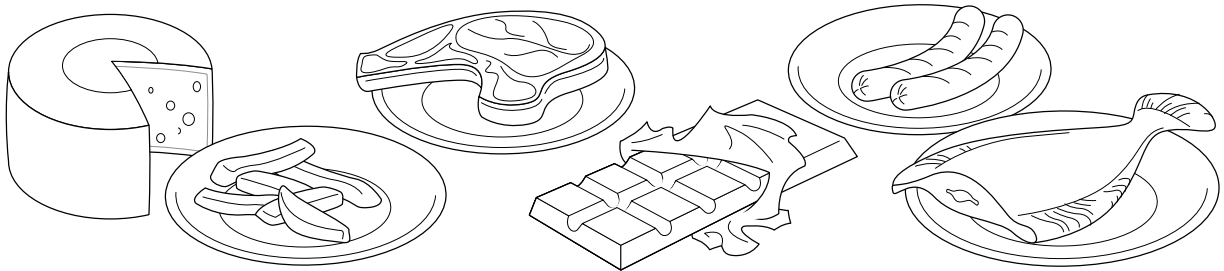


Chelo come patatas.

Felipe toma canelones.

Quique no come nada.

Completa con los nombres de los dos alimentos que más te gusten.



Me encantan

.....  
.....

y

.....  
.....

# PRIMER TRIMESTRE


## Unidad 3. Matemáticas

AA

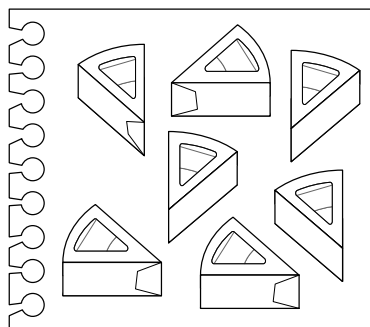
Nombre y apellidos: .....

Curso: ..... Fecha: .....

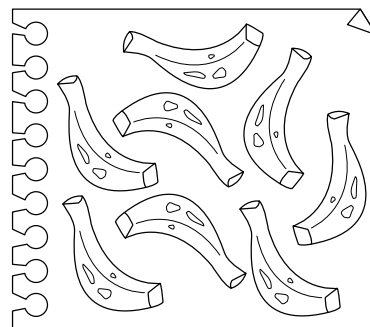
 Cuenta y rodea el número que corresponda.




6 - 8 - 9 - 7



8 - 7 - 6 - 9



7 - 8 - 9 - 6

 Suma y resta.

$$6 + 2 = \square$$

$$5 + 1 = \square$$

$$7 + 1 = \square$$

$$5 + 4 = \square$$

$$8 + 1 = \square$$

$$8 - 4 = \square$$

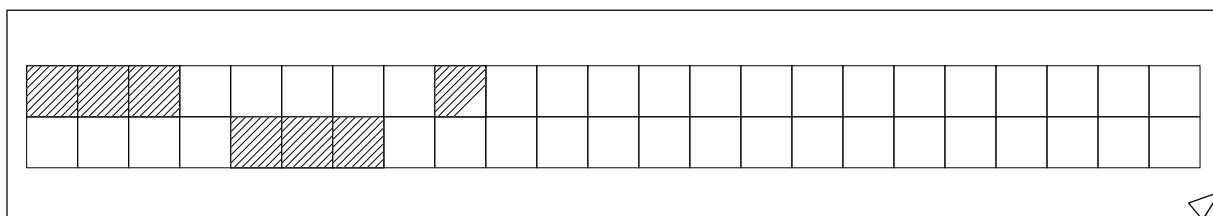
$$9 - 5 = \square$$

$$9 - 4 = \square$$

$$7 - 1 = \square$$

$$8 - 3 = \square$$

 Completa.





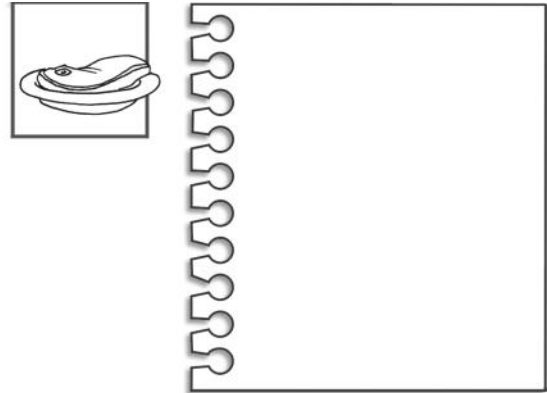
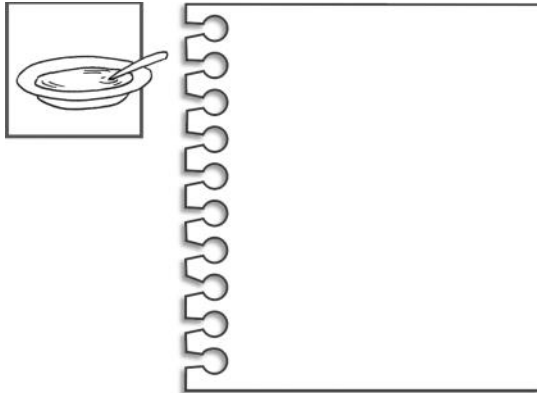
**PRIMER TRIMESTRE**  
**Unidad 3. Conocimiento del Medio**

**AA**

Nombre y apellidos: .....

Curso: ..... Fecha: .....



 Dibuja los cubiertos que utilizas.



 Escribe estos nombres donde corresponda:

pimiento - tomate - queso

leche - lomo - patatas



.....  
.....  
.....

.....  
.....  
.....

.....  
.....  
.....

.....  
.....  
.....

.....  
.....  
.....

.....  
.....  
.....

Nombre y apellidos: .....

Curso: ..... Fecha: .....

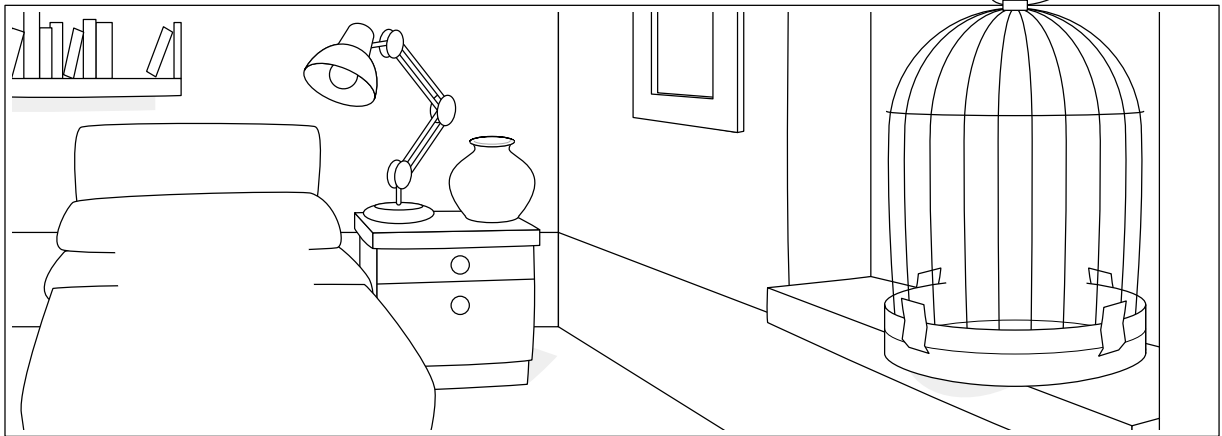
Lee y completa el dibujo.

Un juguete en el suelo.

Una rosa roja en la mesa.

Un gato de peluche en la cama.

Un loro en la jaula.



Busca y escribe.

g

.....  
.....  
.....

j

.....  
.....  
.....

C	Á	Q	C	H	P
B	G	N	Ñ	O	E
L	U	M	S	O	R
P	I	J	A	M	A
I	L	B	T	O	F
R	A	N	A	M	V

r-

.....  
.....  
.....

-r-

.....  
.....  
.....

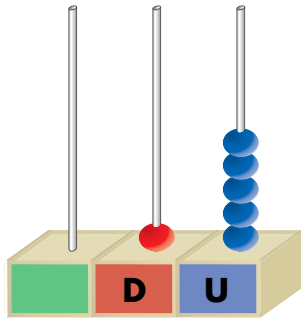
**PRIMER TRIMESTRE**  
**Unidad 4. Matemáticas**

**AA**

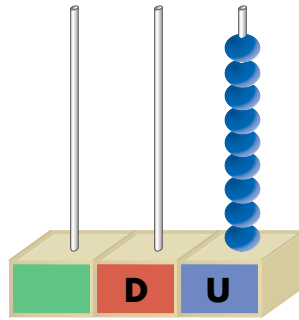
Nombre y apellidos: .....

Curso: ..... Fecha: .....

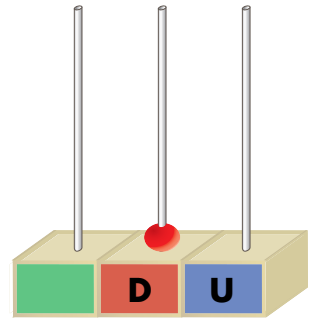
*Cuenta y completa.*



D	U



D	U



D	U

*Calcula y relaciona.*

$7 + 3 = \square$

$$\begin{array}{r} 4 \\ + 4 \\ \hline \square \end{array}$$

$\square = 6$

$4 + 4 = \square$

$$\begin{array}{r} 8 \\ - 2 \\ \hline \square \end{array}$$

$\square = 10$

$8 - 2 = \square$

$$\begin{array}{r} 7 \\ + 3 \\ \hline \square \end{array}$$

$\square = 8$

**PRIMER TRIMESTRE**  
**Unidad 4. Conocimiento del Medio**

**AA**

Nombre y apellidos: .....

Curso: ..... Fecha: .....

📶 Completa con estas palabras:

gel - colonia - peine - champú

Me peino con el .


Me ducho con el .

Después de ducharme me echo

.

Me limpio el pelo con .

📶 Ordena esta secuencia:



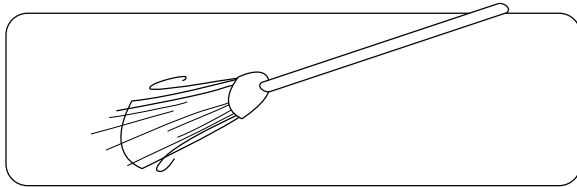
**PRIMER TRIMESTRE**  
**Unidad 5. Lengua**

**AA**

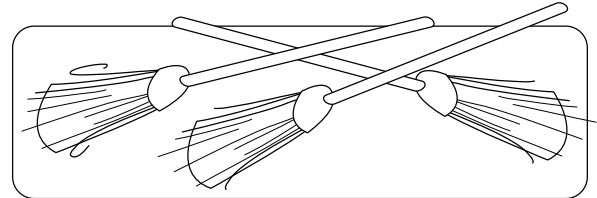
Nombre y apellidos: .....

Curso: ..... Fecha: .....

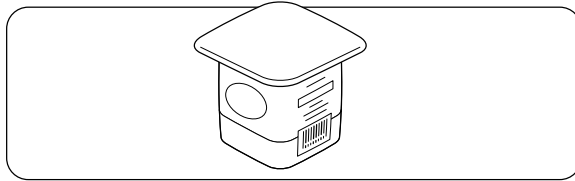
 Escribe.



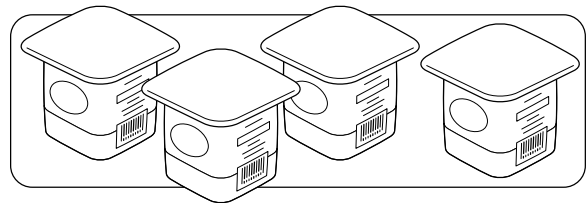
Una escoba



.....  
.....



.....  
.....



.....  
.....

 Ordena y escribe las frases.

es Tocinito policía.

.....  
.....

zumos. toman Todos

.....  
.....

Nombre y apellidos: .....

Curso: ..... Fecha: .....

 Problema.

Un pintor tiene 8 botes de pintura. Si gasta 5, ¿cuántos botes le quedan?





Tiene →



Gasta →



—



Le quedan  botes.

 Cuenta, colorea y contesta.

  
○  
\_\_\_\_\_  
\_\_\_\_\_  
\_\_\_\_\_  
\_\_\_\_\_  
\_\_\_\_\_  
ROSA 

  
○  
\_\_\_\_\_  
\_\_\_\_\_  
\_\_\_\_\_  
\_\_\_\_\_  
\_\_\_\_\_  
ROJO 

  
○  
\_\_\_\_\_  
\_\_\_\_\_  
\_\_\_\_\_  
\_\_\_\_\_  
\_\_\_\_\_  
NARANJA 

  
○  
\_\_\_\_\_  
\_\_\_\_\_  
\_\_\_\_\_  
\_\_\_\_\_  
\_\_\_\_\_  
AZUL 

¿De cuántos hay más?

\_\_\_\_\_  
\_\_\_\_\_

**PRIMER TRIMESTRE**  
**Unidad 5. Conocimiento del Medio**

**AA**


Nombre y apellidos: .....

Curso: ..... Fecha: .....

📶 Escribe el nombre del profesional que se necesita.



.....  
.....  
.....



.....  
.....  
.....

📶 Completa.

toca - conduce - cura - decora

El camionero  camiones.

El decorador  las casas.

La pianista  el piano.

La doctora  enfermos.